


... BENDE KİMDE? (Çarpma)

Her kutu, kendinde olan cevabı üstte aradığı cevabı altta gösteriyor. Oyun baştaki soru ile başlıyor. O sorunun cevabı kimde ise onun aradığı cevaptan devam ederek sona ulaşılır. Sona kalan kutunun aradığı cevabı noktalı yere yazmalıyız.

8 x 7 kimde?

72	
3 x 7 kimde?	

54	
8 x 6 kimde?	

24	
9 x 7 kimde?	

40	
5 x 6 kimde?	

63	
7 x 5 kimde?	

35	
9 x 8 kimde?	

48	
8 x 10 kimde?	

49	
4 x 6 kimde?	

30	
5 x 10 kimde?	

56	
6 x 9 kimde?	

80	
7 x 7 kimde?	

21	
5 x 8 kimde?	

..... bende

... BENDE KİMDE? (Çarpma)

Her kutu, kendinde olan cevabı üstte aradığı cevabı altta gösteriyor. Oyun baştaki soru ile başlıyor. O sorunun cevabı kimde ise onun aradığı cevaptan devam ederek sona ulaşılır. Sona kalan kutunun aradığı cevabı noktalı yere yazmalıyız.

8 x 4 kimde?

72	
2 x 10 kimde?	

35	
5 x 10 kimde?	

45	
5 x 5 kimde?	

60	
3 x 6 kimde?	

36	
6 x 5 kimde?	


18	
9 x 4 kimde?	

32	
5 x 9 kimde?	

25	
8 x 10 kimde?	

80	
4 x 6 kimde?	

20	
5 x 7 kimde?	

24	
10 x 6 kimde?	

30	
9 x 8 kimde?	


..... bende

.... Bende Kimde Çarpma 32

... BENDE KİMDE? (Çarpma)

Her kutu, kendinde olan cevabı üstte aradığı cevabı altta gösteriyor. Oyun baştaki soru ile başlıyor. O sorunun cevabı kimde ise onun aradığı cevaptan devam ederek sona ulaşılır. Sona kalan kutunun aradığı cevabı noktalı yere yazmalıyız.

8 x 7 kimde?

72	
3 x 7 kimde?	

54	
8 x 6 kimde?	

24	
9 x 7 kimde?	

40	
5 x 6 kimde?	

63	
7 x 5 kimde?	

35	
9 x 8 kimde?	

48	
8 x 10 kimde?	

49	
4 x 6 kimde?	

30	
5 x 10 kimde?	

56	
6 x 9 kimde?	

80	
7 x 7 kimde?	

21	
5 x 8 kimde?	

50 bende

... BENDE KİMDE? (Çarpma)

Her kutu, kendinde olan cevabı üstte aradığı cevabı altta gösteriyor. Oyun baştaki soru ile başlıyor. O sorunun cevabı kimde ise onun aradığı cevaptan devam ederek sona ulaşılır. Sona kalan kutunun aradığı cevabı noktalı yere yazmalıyız.

8 x 4 kimde?

72	
2 x 10 kimde?	

35	
5 x 10 kimde?	

45	
5 x 5 kimde?	

60	
3 x 6 kimde?	

36	
6 x 5 kimde?	

18	
9 x 4 kimde?	

32	
5 x 9 kimde?	

25	
8 x 10 kimde?	

80	
4 x 6 kimde?	

20	
5 x 7 kimde?	

24	
10 x 6 kimde?	

30	
9 x 8 kimde?	

50 bende