

... BENDE KİMDE? (Çarpma)

Her kutu, kendinde olan cevabı üstte aradığı cevabı altta gösteriyor. Oyun baştaki soru ile başlıyor. O sorunun cevabı kimde ise onun aradığı cevaptan devam ederek sona ulaşılır. Sona kalan kutunun aradığı cevabı noktalı yere yazmalıyız.

10 x 9 kimde?


48	
5 x 8 kimde?	

20	
9 x 9 kimde?	

81	
7 x 3 kimde?	

40	
6 x 6 kimde?	

21	
9 x 3 kimde?	

90	
9 x 7 kimde?	

27	
6 x 8 kimde?	

45	
4 x 6 kimde?	

63	
10 x 2 kimde?	

56	
5 x 9 kimde?	

36	
2 x 9 kimde?	


18	
8 x 7 kimde?	

..... bende

... BENDE KİMDE? (Çarpma)

Her kutu, kendinde olan cevabı üstte aradığı cevabı altta gösteriyor. Oyun baştaki soru ile başlıyor. O sorunun cevabı kimde ise onun aradığı cevaptan devam ederek sona ulaşılır. Sona kalan kutunun aradığı cevabı noktalı yere yazmalıyız.

5 x 9 kimde?

81	
7 x 3 kimde?	

80	
8 x 8 kimde?	

90	
8 x 2 kimde?	

30	
6 x 9 kimde?	

16	
9 x 9 kimde?	

21	
10 x 8 kimde?	

64	
2 x 7 kimde?	

50	
9 x 4 kimde?	

14	
10 x 5 kimde?	

45	
5 x 6 kimde?	

24	
10 x 9 kimde?	

54	
8 x 3 kimde?	

..... bende

... BENDE KİMDE? (Çarpma)

Her kutu, kendinde olan cevabı üstte aradığı cevabı altta gösteriyor. Oyun baştaki soru ile başlıyor. O sorunun cevabı kimde ise onun aradığı cevaptan devam ederek sona ulaşılır. Sona kalan kutunun aradığı cevabı noktalı yere yazmalıyız.

10 x 9 kimde?

48	
5 x 8 kimde?	

20	
9 x 9 kimde?	

81	
7 x 3 kimde?	

40	
6 x 6 kimde?	

21	
9 x 3 kimde?	

90	
9 x 7 kimde?	


27	
6 x 8 kimde?	

45	
4 x 6 kimde?	

63	
10 x 2 kimde?	

56	
5 x 9 kimde?	

36	
2 x 9 kimde?	


18	
8 x 7 kimde?	

24 bende

... BENDE KİMDE? (Çarpma)

Her kutu, kendinde olan cevabı üstte aradığı cevabı altta gösteriyor. Oyun baştaki soru ile başlıyor. O sorunun cevabı kimde ise onun aradığı cevaptan devam ederek sona ulaşılır. Sona kalan kutunun aradığı cevabı noktalı yere yazmalıyız.

5 x 9 kimde?

81	
7 x 3 kimde?	

80	
8 x 8 kimde?	

90	
8 x 2 kimde?	

30	
6 x 9 kimde?	

16	
9 x 9 kimde?	


21	
10 x 8 kimde?	

64	
2 x 7 kimde?	

50	
9 x 4 kimde?	

14	
10 x 5 kimde?	

45	
5 x 6 kimde?	

24	
10 x 9 kimde?	

54	
8 x 3 kimde?	

36 bende