

... BENDE KİMDE? (Çarpma)

Her kutu, kendinde olan cevabı üstte aradığı cevabı altta gösteriyor. Oyun baştaki soru ile başlıyor. O sorunun cevabı kimde ise onun aradığı cevaptan devam ederek sona ulaşılır. Sona kalan kutunun aradığı cevabı noktalı yere yazmalıyız.

7 x 6 kimde?

90	
9 x 2 kimde?	

28	
9 x 10 kimde?	

21	
5 x 3 kimde?	

27	
5 x 9 kimde?	

18	
9 x 9 kimde?	


45	
10 x 4 kimde?	

40	
7 x 4 kimde?	

15	
6 x 8 kimde?	

20	
3 x 9 kimde?	

81	
3 x 8 kimde?	

42	
3 x 7 kimde?	

48	
5 x 4 kimde?	

..... bende

... BENDE KİMDE? (Çarpma)


Her kutu, kendinde olan cevabı üstte aradığı cevabı altta gösteriyor. Oyun baştaki soru ile başlıyor. O sorunun cevabı kimde ise onun aradığı cevaptan devam ederek sona ulaşılır. Sona kalan kutunun aradığı cevabı noktalı yere yazmalıyız.

9 x 5 kimde?

45	
6 x 10 kimde?	

90	
10 x 2 kimde?	

25	
10 x 5 kimde?	

16	
2 x 7 kimde?	

35	
8 x 2 kimde?	

20	
6 x 8 kimde?	

28	
5 x 5 kimde?	

50	
7 x 6 kimde?	

42	
10 x 9 kimde?	

60	
6 x 6 kimde?	

14	
4 x 7 kimde?	

36	
5 x 7 kimde?	

..... bende

... BENDE KİMDE? (Çarpma)

Her kutu, kendinde olan cevabı üstte aradığı cevabı altta gösteriyor. Oyun baştaki soru ile başlıyor. O sorunun cevabı kimde ise onun aradığı cevaptan devam ederek sona ulaşılır. Sona kalan kutunun aradığı cevabı noktalı yere yazmalıyız.

7 x 6 kimde?

90	
9 x 2 kimde?	

28	
9 x 10 kimde?	

21	
5 x 3 kimde?	

27	
5 x 9 kimde?	

18	
9 x 9 kimde?	


45	
10 x 4 kimde?	

40	
7 x 4 kimde?	

15	
6 x 8 kimde?	

20	
3 x 9 kimde?	

81	
3 x 8 kimde?	

42	
3 x 7 kimde?	

48	
5 x 4 kimde?	

24 bende

... BENDE KİMDE? (Çarpma)


Her kutu, kendinde olan cevabı üstte aradığı cevabı altta gösteriyor. Oyun baştaki soru ile başlıyor. O sorunun cevabı kimde ise onun aradığı cevaptan devam ederek sona ulaşılır. Sona kalan kutunun aradığı cevabı noktalı yere yazmalıyız.

9 x 5 kimde?

45	
6 x 10 kimde?	

90	
10 x 2 kimde?	

25	
10 x 5 kimde?	

16	
2 x 7 kimde?	

35	
8 x 2 kimde?	

20	
6 x 8 kimde?	

28	
5 x 5 kimde?	

50	
7 x 6 kimde?	

42	
10 x 9 kimde?	

60	
6 x 6 kimde?	

14	
4 x 7 kimde?	

36	
5 x 7 kimde?	

48 bende