


... BENDE KİMDE? (Çarpma)

Her kutu, kendinde olan cevabı üstte aradığı cevabı altta gösteriyor. Oyun baştaki soru ile başlıyor. O sorunun cevabı kimde ise onun aradığı cevaptan devam ederek sona ulaşılır. Sona kalan kutunun aradığı cevabı noktalı yere yazmalıyız.

5 x 3 kimde?


18	
9 x 10 kimde?	

30	
10 x 7 kimde?	

27	
8 x 8 kimde?	

21	
9 x 2 kimde?	

80	
10 x 6 kimde?	

70	
3 x 7 kimde?	

63	
5 x 5 kimde?	

90	
5 x 4 kimde?	

15	
5 x 6 kimde?	

60	
9 x 7 kimde?	

64	
8 x 10 kimde?	

20	
9 x 3 kimde?	

..... bende

... BENDE KİMDE? (Çarpma)


Her kutu, kendinde olan cevabı üstte aradığı cevabı altta gösteriyor. Oyun baştaki soru ile başlıyor. O sorunun cevabı kimde ise onun aradığı cevaptan devam ederek sona ulaşılır. Sona kalan kutunun aradığı cevabı noktalı yere yazmalıyız.

3 x 7 kimde?

45	
8 x 7 kimde?	

54	
7 x 9 kimde?	


21	
4 x 6 kimde?	

49	
6 x 7 kimde?	

60	
5 x 9 kimde?	

64	
5 x 8 kimde?	

24	
6 x 10 kimde?	

40	
7 x 7 kimde?	

56	
9 x 2 kimde?	

18	
6 x 9 kimde?	

42	
8 x 6 kimde?	

63	
8 x 8 kimde?	

..... bende

... BENDE KİMDE? (Çarpma)

Her kutu, kendinde olan cevabı üstte aradığı cevabı altta gösteriyor. Oyun baştaki soru ile başlıyor. O sorunun cevabı kimde ise onun aradığı cevaptan devam ederek sona ulaşılır. Sona kalan kutunun aradığı cevabı noktalı yere yazmalıyız.

5 x 3 kimde?


18	
9 x 10 kimde?	

30	
10 x 7 kimde?	

27	
8 x 8 kimde?	

21	
9 x 2 kimde?	

80	
10 x 6 kimde?	

70	
3 x 7 kimde?	

63	
5 x 5 kimde?	

90	
5 x 4 kimde?	

15	
5 x 6 kimde?	

60	
9 x 7 kimde?	

64	
8 x 10 kimde?	

20	
9 x 3 kimde?	

25 bende

... BENDE KİMDE? (Çarpma)


Her kutu, kendinde olan cevabı üstte aradığı cevabı altta gösteriyor. Oyun baştaki soru ile başlıyor. O sorunun cevabı kimde ise onun aradığı cevaptan devam ederek sona ulaşılır. Sona kalan kutunun aradığı cevabı noktalı yere yazmalıyız.

3 x 7 kimde?

45	
8 x 7 kimde?	

54	
7 x 9 kimde?	


21	
4 x 6 kimde?	

49	
6 x 7 kimde?	

60	
5 x 9 kimde?	

64	
5 x 8 kimde?	

24	
6 x 10 kimde?	

40	
7 x 7 kimde?	

56	
9 x 2 kimde?	

18	
6 x 9 kimde?	

42	
8 x 6 kimde?	

63	
8 x 8 kimde?	

48 bende