


... BENDE KİMDE? (Çarpma)

Her kutu, kendinde olan cevabı üstte aradığı cevabı altta gösteriyor. Oyun baştaki soru ile başlıyor. O sorunun cevabı kimde ise onun aradığı cevaptan devam ederek sona ulaşılır. Sona kalan kutunun aradığı cevabı noktalı yere yazmalıyız.

6 x 4 kimde?

20	
3 x 5 kimde?	

16	
4 x 8 kimde?	

80	
7 x 4 kimde?	

18	
6 x 7 kimde?	

40	
9 x 9 kimde?	

24	
3 x 6 kimde?	

28	
10 x 2 kimde?	

30	
10 x 4 kimde?	

81	
2 x 7 kimde?	

42	
2 x 8 kimde?	

14	
10 x 8 kimde?	

32	
10 x 3 kimde?	

..... bende

... BENDE KİMDE? (Çarpma)

Her kutu, kendinde olan cevabı üstte aradığı cevabı altta gösteriyor. Oyun baştaki soru ile başlıyor. O sorunun cevabı kimde ise onun aradığı cevaptan devam ederek sona ulaşılır. Sona kalan kutunun aradığı cevabı noktalı yere yazmalıyız.

5 x 6 kimde?

30	
10 x 9 kimde?	

12	
5 x 10 kimde?	


21	
6 x 2 kimde?	

24	
10 x 10 kimde?	

15	
9 x 6 kimde?	

20	
3 x 8 kimde?	

90	
3 x 6 kimde?	

54	
7 x 3 kimde?	

18	
7 x 8 kimde?	

100	
5 x 3 kimde?	

14	
5 x 4 kimde?	


56	
7 x 2 kimde?	

..... bende

... BENDE KİMDE? (Çarpma)

Her kutu, kendinde olan cevabı üstte aradığı cevabı altta gösteriyor. Oyun baştaki soru ile başlıyor. O sorunun cevabı kimde ise onun aradığı cevaptan devam ederek sona ulaşılır. Sona kalan kutunun aradığı cevabı noktalı yere yazmalıyız.

6 x 4 kimde?

20	
3 x 5 kimde?	

16	
4 x 8 kimde?	


80	
7 x 4 kimde?	

18	
6 x 7 kimde?	

40	
9 x 9 kimde?	

24	
3 x 6 kimde?	

28	
10 x 2 kimde?	

30	
10 x 4 kimde?	

81	
2 x 7 kimde?	

42	
2 x 8 kimde?	

14	
10 x 8 kimde?	

32	
10 x 3 kimde?	

15 bende

... BENDE KİMDE? (Çarpma)

Her kutu, kendinde olan cevabı üstte aradığı cevabı altta gösteriyor. Oyun baştaki soru ile başlıyor. O sorunun cevabı kimde ise onun aradığı cevaptan devam ederek sona ulaşılır. Sona kalan kutunun aradığı cevabı noktalı yere yazmalıyız.

5 x 6 kimde?

30	
10 x 9 kimde?	

12	
5 x 10 kimde?	


21	
6 x 2 kimde?	

24	
10 x 10 kimde?	

15	
9 x 6 kimde?	

20	
3 x 8 kimde?	

90	
3 x 6 kimde?	

54	
7 x 3 kimde?	

18	
7 x 8 kimde?	

100	
5 x 3 kimde?	

14	
5 x 4 kimde?	

56	
7 x 2 kimde?	

50 bende