

... BENDE KİMDE? (Çarpma)

Her kutu, kendinde olan cevabı üstte aradığı cevabı altta gösteriyor. Oyun baştaki soru ile başlıyor. O sorunun cevabı kimde ise onun aradığı cevaptan devam ederek sona ulaşılır. Sona kalan kutunun aradığı cevabı noktalı yere yazmalıyız.

6 x 5 kimde?

27	
5 x 9 kimde?	

90	
3 x 8 kimde?	

15	
6 x 8 kimde?	

40	
7 x 4 kimde?	

48	
5 x 4 kimde?	

20	
3 x 9 kimde?	

24	
9 x 2 kimde?	

21	
5 x 3 kimde?	

42	
9 x 10 kimde?	

30	
3 x 7 kimde?	

28	
7 x 6 kimde?	

45	
10 x 4 kimde?	

..... bende

... BENDE KİMDE? (Çarpma)

Her kutu, kendinde olan cevabı üstte aradığı cevabı altta gösteriyor. Oyun baştaki soru ile başlıyor. O sorunun cevabı kimde ise onun aradığı cevaptan devam ederek sona ulaşılır. Sona kalan kutunun aradığı cevabı noktalı yere yazmalıyız.

6 x 4 kimde?

45	
6 x 6 kimde?	

80	
10 x 3 kimde?	

21	
10 x 9 kimde?	

24	
6 x 10 kimde?	

48	
8 x 10 kimde?	

90	
6 x 2 kimde?	

30	
3 x 7 kimde?	

81	
8 x 4 kimde?	

12	
9 x 9 kimde?	

60	
9 x 5 kimde?	

32	
8 x 2 kimde?	

36	
8 x 6 kimde?	

..... bende

... BENDE KİMDE? (Çarpma)

Her kutu, kendinde olan cevabı üstte aradığı cevabı altta gösteriyor. Oyun baştaki soru ile başlıyor. O sorunun cevabı kimde ise onun aradığı cevaptan devam ederek sona ulaşılır. Sona kalan kutunun aradığı cevabı noktalı yere yazmalıyız.


6 x 5 kimde?

27	
5 x 9 kimde?	

90	
3 x 8 kimde?	

15	
6 x 8 kimde?	

40	
7 x 4 kimde?	

48	
5 x 4 kimde?	

20	
3 x 9 kimde?	


24	
9 x 2 kimde?	

21	
5 x 3 kimde?	

42	
9 x 10 kimde?	

30	
3 x 7 kimde?	

28	
7 x 6 kimde?	

45	
10 x 4 kimde?	

18 bende

... BENDE KİMDE? (Çarpma)

Her kutu, kendinde olan cevabı üstte aradığı cevabı altta gösteriyor. Oyun baştaki soru ile başlıyor. O sorunun cevabı kimde ise onun aradığı cevaptan devam ederek sona ulaşılır. Sona kalan kutunun aradığı cevabı noktalı yere yazmalıyız.

6 x 4 kimde?

45	
6 x 6 kimde?	

80	
10 x 3 kimde?	

21	
10 x 9 kimde?	

24	
6 x 10 kimde?	

48	
8 x 10 kimde?	


90	
6 x 2 kimde?	

30	
3 x 7 kimde?	

81	
8 x 4 kimde?	

12	
9 x 9 kimde?	

60	
9 x 5 kimde?	

32	
8 x 2 kimde?	

36	
8 x 6 kimde?	

16 bende