

... BENDE KİMDE? (Çarpma)


Her kutu, kendinde olan cevabı üstte aradığı cevabı altta gösteriyor. Oyun baştaki soru ile başlıyor. O sorunun cevabı kimde ise onun aradığı cevaptan devam ederek sona ulaşılır. Sona kalan kutunun aradığı cevabı noktalı yere yazmalıyız.

8 x 7 kimde?

42 
4 x 6 kimde?

64 
3 x 6 kimde?


56 
5 x 8 kimde?

72 
7 x 6 kimde?

18 
4 x 5 kimde?

30 
8 x 8 kimde?

40 
7 x 5 kimde?

24 
3 x 5 kimde?

20 
5 x 10 kimde?

15 
9 x 6 kimde?

54 
6 x 5 kimde?

35 
8 x 9 kimde?

..... bende

... BENDE KİMDE? (Çarpma)

Her kutu, kendinde olan cevabı üstte aradığı cevabı altta gösteriyor. Oyun baştaki soru ile başlıyor. O sorunun cevabı kimde ise onun aradığı cevaptan devam ederek sona ulaşılır. Sona kalan kutunun aradığı cevabı noktalı yere yazmalıyız.

7 x 7 kimde?

36 
5 x 7 kimde?

21 
4 x 7 kimde?


45 
6 x 6 kimde?

49 
6 x 10 kimde?

25 
10 x 5 kimde?

50 
7 x 6 kimde?

12 
8 x 2 kimde?

28 
5 x 5 kimde?

60 
9 x 5 kimde?

16 
3 x 7 kimde?

42 
10 x 9 kimde?

35 
6 x 2 kimde?

..... bende

... BENDE KİMDE? (Çarpma)

Her kutu, kendinde olan cevabı üstte aradığı cevabı altta gösteriyor. Oyun baştaki soru ile başlıyor. O sorunun cevabı kimde ise onun aradığı cevaptan devam ederek sona ulaşılır. Sona kalan kutunun aradığı cevabı noktalı yere yazmalıyız.

8 x 7 kimde?

42	
4 x 6 kimde?	

64	
3 x 6 kimde?	

56	
5 x 8 kimde?	

72	
7 x 6 kimde?	

18	
4 x 5 kimde?	

30	
8 x 8 kimde?	

40	
7 x 5 kimde?	

24	
3 x 5 kimde?	

20	
5 x 10 kimde?	

15	
9 x 6 kimde?	

54	
6 x 5 kimde?	

35	
8 x 9 kimde?	

50 bende

... BENDE KİMDE? (Çarpma)

Her kutu, kendinde olan cevabı üstte aradığı cevabı altta gösteriyor. Oyun baştaki soru ile başlıyor. O sorunun cevabı kimde ise onun aradığı cevaptan devam ederek sona ulaşılır. Sona kalan kutunun aradığı cevabı noktalı yere yazmalıyız.

7 x 7 kimde?

36	
5 x 7 kimde?	

21	
4 x 7 kimde?	

45	
6 x 6 kimde?	

49	
6 x 10 kimde?	

25	
10 x 5 kimde?	

50	
7 x 6 kimde?	

12	
8 x 2 kimde?	

28	
5 x 5 kimde?	

60	
9 x 5 kimde?	

16	
3 x 7 kimde?	

42	
10 x 9 kimde?	

35	
6 x 2 kimde?	

90 bende