

## ... BENDE .... KİMDE? (Çarpma)


Her kutu, kendinde olan cevabı üstte aradığı cevabı altta gösteriyor. Oyun baştaki soru ile başlıyor. O sorunun cevabı kimde ise onun aradığı cevaptan devam ederek sona ulaşılır. Sona kalan kutunun aradığı cevabı noktalı yere yazmalıyız.

8 x 7 kimde?

20	
5 x 10 kimde?	

30	
9 x 8 kimde?	


35	
8 x 10 kimde?	

45	
7 x 5 kimde?	

63	
6 x 5 kimde?	

50	
4 x 7 kimde?	

42	
4 x 6 kimde?	

72	
4 x 5 kimde?	

18	
9 x 7 kimde?	

24	
3 x 6 kimde?	

56	
5 x 9 kimde?	

80	
7 x 6 kimde?	

..... bende

## ... BENDE .... KİMDE? (Çarpma)

Her kutu, kendinde olan cevabı üstte aradığı cevabı altta gösteriyor. Oyun baştaki soru ile başlıyor. O sorunun cevabı kimde ise onun aradığı cevaptan devam ederek sona ulaşılır. Sona kalan kutunun aradığı cevabı noktalı yere yazmalıyız.

3 x 10 kimde?

42	
5 x 8 kimde?	

80	
6 x 6 kimde?	

30	
2 x 6 kimde?	

49	
4 x 7 kimde?	

24	
9 x 2 kimde?	

36	
6 x 4 kimde?	

45	
4 x 8 kimde?	

32	
7 x 6 kimde?	

28	
8 x 10 kimde?	

48	
7 x 7 kimde?	

40	
6 x 8 kimde?	

12	
5 x 9 kimde?	

..... bende

## ... BENDE .... KİMDE? (Çarpma)

Her kutu, kendinde olan cevabı üstte aradığı cevabı altta gösteriyor. Oyun baştaki soru ile başlıyor. O sorunun cevabı kimde ise onun aradığı cevaptan devam ederek sona ulaşılır. Sona kalan kutunun aradığı cevabı noktalı yere yazmalıyız.

8 x 7 kimde?

20	
5 x 10 kimde?	

30	
9 x 8 kimde?	

35	
8 x 10 kimde?	

45	
7 x 5 kimde?	

63	
6 x 5 kimde?	

50	
4 x 7 kimde?	

42	
4 x 6 kimde?	

72	
4 x 5 kimde?	

18	
9 x 7 kimde?	

24	
3 x 6 kimde?	

56	
5 x 9 kimde?	

80	
7 x 6 kimde?	

28 bende

## ... BENDE .... KİMDE? (Çarpma)

Her kutu, kendinde olan cevabı üstte aradığı cevabı altta gösteriyor. Oyun baştaki soru ile başlıyor. O sorunun cevabı kimde ise onun aradığı cevaptan devam ederek sona ulaşılır. Sona kalan kutunun aradığı cevabı noktalı yere yazmalıyız.

3 x 10 kimde?

42	
5 x 8 kimde?	

80	
6 x 6 kimde?	

30	
2 x 6 kimde?	

49	
4 x 7 kimde?	


24	
9 x 2 kimde?	

36	
6 x 4 kimde?	

45	
4 x 8 kimde?	

32	
7 x 6 kimde?	

28	
8 x 10 kimde?	

48	
7 x 7 kimde?	

40	
6 x 8 kimde?	

12	
5 x 9 kimde?	

18 bende