


... BENDE KİMDE? (Çarpma)


Her kutu, kendinde olan cevabı üstte aradığı cevabı altta gösteriyor. Oyun baştaki soru ile başlıyor. O sorunun cevabı kimde ise onun aradığı cevaptan devam ederek sona ulaşılır. Sona kalan kutunun aradığı cevabı noktalı yere yazmalıyız.

4 x 6 kimde?

70	
3 x 7 kimde?	

18	
8 x 2 kimde?	

30	
7 x 7 kimde?	

49	
10 x 6 kimde?	

20	
7 x 8 kimde?	

60	
9 x 7 kimde?	

80	
10 x 3 kimde?	

56	
8 x 10 kimde?	

90	
5 x 4 kimde?	

16	
9 x 10 kimde?	

24	
10 x 7 kimde?	

21	
9 x 2 kimde?	


..... bende

... BENDE KİMDE? (Çarpma)

Her kutu, kendinde olan cevabı üstte aradığı cevabı altta gösteriyor. Oyun baştaki soru ile başlıyor. O sorunun cevabı kimde ise onun aradığı cevaptan devam ederek sona ulaşılır. Sona kalan kutunun aradığı cevabı noktalı yere yazmalıyız.

5 x 7 kimde?

20	
9 x 2 kimde?	


18	
5 x 8 kimde?	

35	
2 x 6 kimde?	

50	
2 x 7 kimde?	

27	
5 x 10 kimde?	

40	
3 x 9 kimde?	

72	
3 x 7 kimde?	

12	
4 x 6 kimde?	

21	
2 x 10 kimde?	

24	
9 x 4 kimde?	

14	
10 x 9 kimde?	


36	
9 x 8 kimde?	


..... bende

... BENDE KİMDE? (Çarpma)


Her kutu, kendinde olan cevabı üstte aradığı cevabı altta gösteriyor. Oyun baştaki soru ile başlıyor. O sorunun cevabı kimde ise onun aradığı cevaptan devam ederek sona ulaşılır. Sona kalan kutunun aradığı cevabı noktalı yere yazmalıyız.

4 x 6 kimde?

70	
3 x 7 kimde?	

18	
8 x 2 kimde?	

30	
7 x 7 kimde?	

49	
10 x 6 kimde?	

20	
7 x 8 kimde?	


60	
9 x 7 kimde?	

80	
10 x 3 kimde?	

56	
8 x 10 kimde?	

90	
5 x 4 kimde?	

16	
9 x 10 kimde?	

24	
10 x 7 kimde?	

21	
9 x 2 kimde?	


63 bende

... BENDE KİMDE? (Çarpma)

Her kutu, kendinde olan cevabı üstte aradığı cevabı altta gösteriyor. Oyun baştaki soru ile başlıyor. O sorunun cevabı kimde ise onun aradığı cevaptan devam ederek sona ulaşılır. Sona kalan kutunun aradığı cevabı noktalı yere yazmalıyız.

5 x 7 kimde?

20	
9 x 2 kimde?	


18	
5 x 8 kimde?	

35	
2 x 6 kimde?	

50	
2 x 7 kimde?	

27	
5 x 10 kimde?	

40	
3 x 9 kimde?	

72	
3 x 7 kimde?	

12	
4 x 6 kimde?	

21	
2 x 10 kimde?	

24	
9 x 4 kimde?	

14	
10 x 9 kimde?	

36	
9 x 8 kimde?	

90 bende