


... BENDE KİMDE? (Çarpma)

Her kutu, kendinde olan cevabı üstte aradığı cevabı altta gösteriyor. Oyun baştaki soru ile başlıyor. O sorunun cevabı kimde ise onun aradığı cevaptan devam ederek sona ulaşılır. Sona kalan kutunun aradığı cevabı noktalı yere yazmalıyız.

7 x 6 kimde?

24	
7 x 8 kimde?	

49	
10 x 10 kimde?	

56	
6 x 5 kimde?	

30	
6 x 10 kimde?	

36	
9 x 3 kimde?	

28	
6 x 4 kimde?	

40	
5 x 4 kimde?	

42	
4 x 7 kimde?	

100	
4 x 9 kimde?	

20	
7 x 7 kimde?	

15	
8 x 5 kimde?	

60	
3 x 5 kimde?	

..... bende

... BENDE KİMDE? (Çarpma)

Her kutu, kendinde olan cevabı üstte aradığı cevabı altta gösteriyor. Oyun baştaki soru ile başlıyor. O sorunun cevabı kimde ise onun aradığı cevaptan devam ederek sona ulaşılır. Sona kalan kutunun aradığı cevabı noktalı yere yazmalıyız.


7 x 7 kimde?


18	
9 x 6 kimde?	

54	
4 x 9 kimde?	

24	
4 x 5 kimde?	

48	
7 x 10 kimde?	

27	
4 x 6 kimde?	

36	
8 x 5 kimde?	

40	
6 x 8 kimde?	

12	
8 x 10 kimde?	

49	
2 x 6 kimde?	

20	
9 x 5 kimde?	

70	
9 x 3 kimde?	

80	
3 x 6 kimde?	

..... bende

... BENDE KİMDE? (Çarpma)

Her kutu, kendinde olan cevabı üstte aradığı cevabı altta gösteriyor. Oyun baştaki soru ile başlıyor. O sorunun cevabı kimde ise onun aradığı cevaptan devam ederek sona ulaşılır. Sona kalan kutunun aradığı cevabı noktalı yere yazmalıyız.

7 x 6 kimde?

24	
7 x 8 kimde?	

49	
10 x 10 kimde?	


56	
6 x 5 kimde?	

30	
6 x 10 kimde?	

36	
9 x 3 kimde?	

28	
6 x 4 kimde?	

40	
5 x 4 kimde?	

42	
4 x 7 kimde?	

100	
4 x 9 kimde?	

20	
7 x 7 kimde?	

15	
8 x 5 kimde?	

60	
3 x 5 kimde?	

27 bende

... BENDE KİMDE? (Çarpma)

Her kutu, kendinde olan cevabı üstte aradığı cevabı altta gösteriyor. Oyun baştaki soru ile başlıyor. O sorunun cevabı kimde ise onun aradığı cevaptan devam ederek sona ulaşılır. Sona kalan kutunun aradığı cevabı noktalı yere yazmalıyız.


7 x 7 kimde?

18	
9 x 6 kimde?	

54	
4 x 9 kimde?	

24	
4 x 5 kimde?	

48	
7 x 10 kimde?	


27	
4 x 6 kimde?	

36	
8 x 5 kimde?	

40	
6 x 8 kimde?	

12	
8 x 10 kimde?	

49	
2 x 6 kimde?	

20	
9 x 5 kimde?	

70	
9 x 3 kimde?	

80	
3 x 6 kimde?	

45 bende