


... BENDE KİMDE? (Çarpma)

Her kutu, kendinde olan cevabı üstte aradığı cevabı altta gösteriyor. Oyun baştaki soru ile başlıyor. O sorunun cevabı kimde ise onun aradığı cevaptan devam ederek sona ulaşılır. Sona kalan kutunun aradığı cevabı noktalı yere yazmalıyız.

2 x 10 kimde?

80	
10 x 10 kimde?	

16	
10 x 8 kimde?	


72	
6 x 10 kimde?	

40	
7 x 9 kimde?	

54	
7 x 7 kimde?	

30	
9 x 8 kimde?	

49	
3 x 10 kimde?	

100	
8 x 5 kimde?	

63	
6 x 9 kimde?	

35	
5 x 5 kimde?	

60	
5 x 7 kimde?	

20	
8 x 2 kimde?	

..... bende

... BENDE KİMDE? (Çarpma)

Her kutu, kendinde olan cevabı üstte aradığı cevabı altta gösteriyor. Oyun baştaki soru ile başlıyor. O sorunun cevabı kimde ise onun aradığı cevaptan devam ederek sona ulaşılır. Sona kalan kutunun aradığı cevabı noktalı yere yazmalıyız.

7 x 7 kimde?

14	
6 x 3 kimde?	

49	
10 x 2 kimde?	

36	
2 x 6 kimde?	

20	
7 x 9 kimde?	

63	
7 x 4 kimde?	

70	
7 x 2 kimde?	

45	
7 x 10 kimde?	

12	
5 x 9 kimde?	

32	
5 x 8 kimde?	

28	
9 x 3 kimde?	

40	
6 x 6 kimde?	

27	
4 x 8 kimde?	

..... bende


... BENDE KİMDE? (Çarpma)

Her kutu, kendinde olan cevabı üstte aradığı cevabı altta gösteriyor. Oyun baştaki soru ile başlıyor. O sorunun cevabı kimde ise onun aradığı cevaptan devam ederek sona ulaşılır. Sona kalan kutunun aradığı cevabı noktalı yere yazmalıyız.

2 x 10 kimde?

80	
10 x 10 kimde?	

16	
10 x 8 kimde?	

72	
6 x 10 kimde?	

40	
7 x 9 kimde?	

54	
7 x 7 kimde?	

30	
9 x 8 kimde?	

49	
3 x 10 kimde?	

100	
8 x 5 kimde?	

63	
6 x 9 kimde?	

35	
5 x 5 kimde?	

60	
5 x 7 kimde?	

20	
8 x 2 kimde?	

25 bende

... BENDE KİMDE? (Çarpma)

Her kutu, kendinde olan cevabı üstte aradığı cevabı altta gösteriyor. Oyun baştaki soru ile başlıyor. O sorunun cevabı kimde ise onun aradığı cevaptan devam ederek sona ulaşılır. Sona kalan kutunun aradığı cevabı noktalı yere yazmalıyız.

7 x 7 kimde?

14	
6 x 3 kimde?	

49	
10 x 2 kimde?	

36	
2 x 6 kimde?	

20	
7 x 9 kimde?	

63	
7 x 4 kimde?	

70	
7 x 2 kimde?	

45	
7 x 10 kimde?	

12	
5 x 9 kimde?	

32	
5 x 8 kimde?	

28	
9 x 3 kimde?	

40	
6 x 6 kimde?	

27	
4 x 8 kimde?	

18 bende