

... BENDE KİMDE? (Çarpma)

Her kutu, kendinde olan cevabı üstte aradığı cevabı altta gösteriyor. Oyun baştaki soru ile başlıyor. O sorunun cevabı kimde ise onun aradığı cevaptan devam ederek sona ulaşılır. Sona kalan kutunun aradığı cevabı noktalı yere yazmalıyız.

6 x 4 kimde?

40	
10 x 3 kimde?	

24	
3 x 6 kimde?	

81	
8 x 2 kimde?	

28	
9 x 10 kimde?	

20	
5 x 8 kimde?	

32	
7 x 7 kimde?	

18	
5 x 3 kimde?	

30	
7 x 4 kimde?	

42	
5 x 4 kimde?	

90	
9 x 9 kimde?	

15	
6 x 7 kimde?	

16	
8 x 4 kimde?	

..... bende

... BENDE KİMDE? (Çarpma)

Her kutu, kendinde olan cevabı üstte aradığı cevabı altta gösteriyor. Oyun baştaki soru ile başlıyor. O sorunun cevabı kimde ise onun aradığı cevaptan devam ederek sona ulaşılır. Sona kalan kutunun aradığı cevabı noktalı yere yazmalıyız.

6 x 10 kimde?


15	
9 x 9 kimde?	

72	
10 x 3 kimde?	

49	
8 x 6 kimde?	


30	
5 x 3 kimde?	

20	
8 x 8 kimde?	

81	
6 x 9 kimde?	

60	
9 x 8 kimde?	

48	
2 x 6 kimde?	

70	
8 x 3 kimde?	

12	
7 x 10 kimde?	

54	
10 x 2 kimde?	

64	
7 x 7 kimde?	

..... bende

.... Bende Kimde Çarpma 58

... BENDE KİMDE? (Çarpma)

Her kutu, kendinde olan cevabı üstte aradığı cevabı altta gösteriyor. Oyun baştaki soru ile başlıyor. O sorunun cevabı kimde ise onun aradığı cevaptan devam ederek sona ulaşılır. Sona kalan kutunun aradığı cevabı noktalı yere yazmalıyız.

6 x 4 kimde?


40	
10 x 3 kimde?	

24	
3 x 6 kimde?	

81	
8 x 2 kimde?	

28	
9 x 10 kimde?	

20	
5 x 8 kimde?	

32	
7 x 7 kimde?	

18	
5 x 3 kimde?	

30	
7 x 4 kimde?	

42	
5 x 4 kimde?	

90	
9 x 9 kimde?	

15	
6 x 7 kimde?	

16	
8 x 4 kimde?	

49 bende

... BENDE KİMDE? (Çarpma)

Her kutu, kendinde olan cevabı üstte aradığı cevabı altta gösteriyor. Oyun baştaki soru ile başlıyor. O sorunun cevabı kimde ise onun aradığı cevaptan devam ederek sona ulaşılır. Sona kalan kutunun aradığı cevabı noktalı yere yazmalıyız.

6 x 10 kimde?

15	
9 x 9 kimde?	

72	
10 x 3 kimde?	

49	
8 x 6 kimde?	

30	
5 x 3 kimde?	

20	
8 x 8 kimde?	


81	
6 x 9 kimde?	


60	
9 x 8 kimde?	

48	
2 x 6 kimde?	

70	
8 x 3 kimde?	

12	
7 x 10 kimde?	

54	
10 x 2 kimde?	

64	
7 x 7 kimde?	

24 bende