

... BENDE KİMDE? (Çarpma)

Her kutu, kendinde olan cevabı üstte aradığı cevabı altta gösteriyor. Oyun baştaki soru ile başlıyor. O sorunun cevabı kimde ise onun aradığı cevaptan devam ederek sona ulaşılır. Sona kalan kutunun aradığı cevabı noktalı yere yazmalıyız.

7 x 6 kimde?

40	
10 x 2 kimde?	

15	
8 x 5 kimde?	


42	
4 x 7 kimde?	

28	
6 x 4 kimde?	

100	
4 x 9 kimde?	

36	
9 x 3 kimde?	

30	
6 x 9 kimde?	

27	
6 x 8 kimde?	

20	
10 x 10 kimde?	

54	
3 x 5 kimde?	

56	
6 x 5 kimde?	

24	
7 x 8 kimde?	


..... bende

... BENDE KİMDE? (Çarpma)

Her kutu, kendinde olan cevabı üstte aradığı cevabı altta gösteriyor. Oyun baştaki soru ile başlıyor. O sorunun cevabı kimde ise onun aradığı cevaptan devam ederek sona ulaşılır. Sona kalan kutunun aradığı cevabı noktalı yere yazmalıyız.

5 x 7 kimde?

81	
3 x 10 kimde?	

35	
8 x 2 kimde?	

16	
2 x 7 kimde?	

48	
3 x 6 kimde?	

20	
6 x 8 kimde?	

30	
10 x 2 kimde?	

50	
7 x 6 kimde?	

14	
4 x 7 kimde?	

42	
9 x 9 kimde?	

28	
5 x 5 kimde?	

18	
8 x 10 kimde?	

25	
10 x 5 kimde?	

..... bende

... BENDE KİMDE? (Çarpma)

Her kutu, kendinde olan cevabı üstte aradığı cevabı altta gösteriyor. Oyun baştaki soru ile başlıyor. O sorunun cevabı kimde ise onun aradığı cevaptan devam ederek sona ulaşılır. Sona kalan kutunun aradığı cevabı noktalı yere yazmalıyız.

7 x 6 kimde?

40	
10 x 2 kimde?	

15	
8 x 5 kimde?	


42	
4 x 7 kimde?	

28	
6 x 4 kimde?	

100	
4 x 9 kimde?	

36	
9 x 3 kimde?	

30	
6 x 9 kimde?	

27	
6 x 8 kimde?	

20	
10 x 10 kimde?	

54	
3 x 5 kimde?	

56	
6 x 5 kimde?	

24	
7 x 8 kimde?	

48 bende


... BENDE KİMDE? (Çarpma)

Her kutu, kendinde olan cevabı üstte aradığı cevabı altta gösteriyor. Oyun baştaki soru ile başlıyor. O sorunun cevabı kimde ise onun aradığı cevaptan devam ederek sona ulaşılır. Sona kalan kutunun aradığı cevabı noktalı yere yazmalıyız.


5 x 7 kimde?

81	
3 x 10 kimde?	

35	
8 x 2 kimde?	

16	
2 x 7 kimde?	

48	
3 x 6 kimde?	

20	
6 x 8 kimde?	

30	
10 x 2 kimde?	

50	
7 x 6 kimde?	

14	
4 x 7 kimde?	

42	
9 x 9 kimde?	

28	
5 x 5 kimde?	

18	
8 x 10 kimde?	

25	
10 x 5 kimde?	

80 bende