

... BENDE KİMDE? (Çarpma)

Her kutu, kendinde olan cevabı üstte aradığı cevabı altta gösteriyor. Oyun baştaki soru ile başlıyor. O sorunun cevabı kimde ise onun aradığı cevaptan devam ederek sona ulaşılır. Sona kalan kutunun aradığı cevabı noktalı yere yazmalıyız.

6 x 5 kimde?


45	
10 x 4 kimde?	

48	
5 x 4 kimde?	


20	
3 x 9 kimde?	

42	
9 x 10 kimde?	


28	
5 x 3 kimde?	

90	
3 x 8 kimde?	

30	
4 x 7 kimde?	

40	
7 x 5 kimde?	

24	
9 x 2 kimde?	

27	
5 x 9 kimde?	

35	
7 x 6 kimde?	

15	
6 x 8 kimde?	

..... bende

... BENDE KİMDE? (Çarpma)

Her kutu, kendinde olan cevabı üstte aradığı cevabı altta gösteriyor. Oyun baştaki soru ile başlıyor. O sorunun cevabı kimde ise onun aradığı cevaptan devam ederek sona ulaşılır. Sona kalan kutunun aradığı cevabı noktalı yere yazmalıyız.

2 x 9 kimde?

40	
4 x 8 kimde?	

21	
6 x 4 kimde?	

18	
9 x 4 kimde?	

20	
10 x 4 kimde?	

63	
5 x 5 kimde?	

36	
10 x 2 kimde?	

25	
5 x 3 kimde?	

28	
5 x 6 kimde?	

32	
3 x 7 kimde?	

24	
7 x 10 kimde?	

30	
7 x 9 kimde?	

70	
4 x 7 kimde?	

..... bende

.... Bende Kimde Çarpma 62

... BENDE KİMDE? (Çarpma)

Her kutu, kendinde olan cevabı üstte aradığı cevabı altta gösteriyor. Oyun baştaki soru ile başlıyor. O sorunun cevabı kimde ise onun aradığı cevaptan devam ederek sona ulaşılır. Sona kalan kutunun aradığı cevabı noktalı yere yazmalıyız.

6 x 5 kimde?

45	
10 x 4 kimde?	

48	
5 x 4 kimde?	


20	
3 x 9 kimde?	


42	
9 x 10 kimde?	


28	
5 x 3 kimde?	

90	
3 x 8 kimde?	

30	
4 x 7 kimde?	

40	
7 x 5 kimde?	

24	
9 x 2 kimde?	

27	
5 x 9 kimde?	

35	
7 x 6 kimde?	

15	
6 x 8 kimde?	

18 bende

... BENDE KİMDE? (Çarpma)


Her kutu, kendinde olan cevabı üstte aradığı cevabı altta gösteriyor. Oyun baştaki soru ile başlıyor. O sorunun cevabı kimde ise onun aradığı cevaptan devam ederek sona ulaşılır. Sona kalan kutunun aradığı cevabı noktalı yere yazmalıyız.

2 x 9 kimde?

40	
4 x 8 kimde?	

21	
6 x 4 kimde?	

18	
9 x 4 kimde?	

20	
10 x 4 kimde?	

63	
5 x 5 kimde?	

36	
10 x 2 kimde?	

25	
5 x 3 kimde?	

28	
5 x 6 kimde?	

32	
3 x 7 kimde?	

24	
7 x 10 kimde?	

30	
7 x 9 kimde?	

70	
4 x 7 kimde?	

15 bende

... Bende Kimde Çarpma 62