

## ... BENDE .... KİMDE? (Çarpma)

Her kutu, kendinde olan cevabı üstte aradığı cevabı altta gösteriyor. Oyun baştaki soru ile başlıyor. O sorunun cevabı kimde ise onun aradığı cevaptan devam ederek sona ulaşılır. Sona kalan kutunun aradığı cevabı noktalı yere yazmalıyız.

5 x 3 kimde?

27	
8 x 9 kimde?	

70	
6 x 6 kimde?	

20	
9 x 2 kimde?	

30	
10 x 8 kimde?	

100	
9 x 3 kimde?	

28	
10 x 2 kimde?	

72	
8 x 8 kimde?	

80	
4 x 7 kimde?	

12	
10 x 7 kimde?	

18	
10 x 10 kimde?	

15	
5 x 6 kimde?	

64	
2 x 6 kimde?	

..... bende

## ... BENDE .... KİMDE? (Çarpma)


Her kutu, kendinde olan cevabı üstte aradığı cevabı altta gösteriyor. Oyun baştaki soru ile başlıyor. O sorunun cevabı kimde ise onun aradığı cevaptan devam ederek sona ulaşılır. Sona kalan kutunun aradığı cevabı noktalı yere yazmalıyız.

10 x 8 kimde?

60	
3 x 10 kimde?	

40	
4 x 9 kimde?	

80	
10 x 4 kimde?	

27	
5 x 7 kimde?	

64	
9 x 3 kimde?	

56	
8 x 8 kimde?	

30	
7 x 8 kimde?	

70	
7 x 7 kimde?	

15	
10 x 7 kimde?	

36	
10 x 6 kimde?	

35	
7 x 2 kimde?	

14	
5 x 3 kimde?	

..... bende

.... Bende .... Kimde Çarpma 63

## ... BENDE .... KİMDE? (Çarpma)

Her kutu, kendinde olan cevabı üstte aradığı cevabı altta gösteriyor. Oyun baştaki soru ile başlıyor. O sorunun cevabı kimde ise onun aradığı cevaptan devam ederek sona ulaşılır. Sona kalan kutunun aradığı cevabı noktalı yere yazmalıyız.

5 x 3 kimde?

27	
8 x 9 kimde?	

70	
6 x 6 kimde?	

20	
9 x 2 kimde?	

30	
10 x 8 kimde?	

100	
9 x 3 kimde?	

28	
10 x 2 kimde?	

72	
8 x 8 kimde?	

80	
4 x 7 kimde?	

12	
10 x 7 kimde?	

18	
10 x 10 kimde?	

15	
5 x 6 kimde?	

64	
2 x 6 kimde?	

36 bende

## ... BENDE .... KİMDE? (Çarpma)


Her kutu, kendinde olan cevabı üstte aradığı cevabı altta gösteriyor. Oyun baştaki soru ile başlıyor. O sorunun cevabı kimde ise onun aradığı cevaptan devam ederek sona ulaşılır. Sona kalan kutunun aradığı cevabı noktalı yere yazmalıyız.

10 x 8 kimde?

60	
3 x 10 kimde?	

40	
4 x 9 kimde?	


80	
10 x 4 kimde?	

27	
5 x 7 kimde?	

64	
9 x 3 kimde?	

56	
8 x 8 kimde?	

30	
7 x 8 kimde?	

70	
7 x 7 kimde?	

15	
10 x 7 kimde?	

36	
10 x 6 kimde?	

35	
7 x 2 kimde?	

14	
5 x 3 kimde?	

49 bende