


## ... BENDE .... KİMDE? (Çarpma)

Her kutu, kendinde olan cevabı üstte aradığı cevabı altta gösteriyor. Oyun baştaki soru ile başlıyor. O sorunun cevabı kimde ise onun aradığı cevaptan devam ederek sona ulaşılır. Sona kalan kutunun aradığı cevabı noktalı yere yazmalıyız.

7 x 5 kimde?

48	
5 x 5 kimde?	

100	
7 x 9 kimde?	

18	
6 x 8 kimde?	

28	
6 x 3 kimde?	

63	
8 x 3 kimde?	

42	
10 x 10 kimde?	

15	
7 x 6 kimde?	

25	
3 x 10 kimde?	

24	
7 x 10 kimde?	

30	
5 x 9 kimde?	

45	
5 x 3 kimde?	

35	
4 x 7 kimde?	

..... bende

## ... BENDE .... KİMDE? (Çarpma)

Her kutu, kendinde olan cevabı üstte aradığı cevabı altta gösteriyor. Oyun baştaki soru ile başlıyor. O sorunun cevabı kimde ise onun aradığı cevaptan devam ederek sona ulaşılır. Sona kalan kutunun aradığı cevabı noktalı yere yazmalıyız.

3 x 7 kimde?

40	
8 x 3 kimde?	

24	
10 x 3 kimde?	

21	
10 x 8 kimde?	

18	
6 x 7 kimde?	


80	
6 x 2 kimde?	

12	
3 x 6 kimde?	

54	
9 x 3 kimde?	

30	
9 x 7 kimde?	

63	
3 x 5 kimde?	

27	
8 x 4 kimde?	

42	
5 x 8 kimde?	


15	
9 x 6 kimde?	

..... bende

## ... BENDE .... KİMDE? (Çarpma)

Her kutu, kendinde olan cevabı üstte aradığı cevabı altta gösteriyor. Oyun baştaki soru ile başlıyor. O sorunun cevabı kimde ise onun aradığı cevaptan devam ederek sona ulaşılır. Sona kalan kutunun aradığı cevabı noktalı yere yazmalıyız.

7 x 5 kimde?

48	
5 x 5 kimde?	

100	
7 x 9 kimde?	

18	
6 x 8 kimde?	

28	
6 x 3 kimde?	

63	
8 x 3 kimde?	

42	
10 x 10 kimde?	

15	
7 x 6 kimde?	

25	
3 x 10 kimde?	

24	
7 x 10 kimde?	

30	
5 x 9 kimde?	

45	
5 x 3 kimde?	

35	
4 x 7 kimde?	

70 bende

## ... BENDE .... KİMDE? (Çarpma)


Her kutu, kendinde olan cevabı üstte aradığı cevabı altta gösteriyor. Oyun baştaki soru ile başlıyor. O sorunun cevabı kimde ise onun aradığı cevaptan devam ederek sona ulaşılır. Sona kalan kutunun aradığı cevabı noktalı yere yazmalıyız.

3 x 7 kimde?

40	
8 x 3 kimde?	

24	
10 x 3 kimde?	


21	
10 x 8 kimde?	

18	
6 x 7 kimde?	


80	
6 x 2 kimde?	

12	
3 x 6 kimde?	

54	
9 x 3 kimde?	

30	
9 x 7 kimde?	

63	
3 x 5 kimde?	

27	
8 x 4 kimde?	

42	
5 x 8 kimde?	

15	
9 x 6 kimde?	

32 bende

.... Bende .... Kimde Çarpma 64