

## ... BENDE .... KİMDE? (Çarpma)

Her kutu, kendinde olan cevabı üstte aradığı cevabı altta gösteriyor. Oyun baştaki soru ile başlıyor. O sorunun cevabı kimde ise onun aradığı cevaptan devam ederek sona ulaşılır. Sona kalan kutunun aradığı cevabı noktalı yere yazmalıyız.

7 x 6 kimde?

56	
4 x 9 kimde?	

60	
3 x 5 kimde?	

24	
7 x 9 kimde?	

36	
3 x 6 kimde?	

32	
6 x 4 kimde?	

40	
6 x 10 kimde?	

30	
4 x 10 kimde?	

42	
4 x 8 kimde?	

18	
8 x 8 kimde?	

15	
8 x 6 kimde?	

48	
8 x 7 kimde?	

63	
6 x 5 kimde?	


..... bende

## ... BENDE .... KİMDE? (Çarpma)

Her kutu, kendinde olan cevabı üstte aradığı cevabı altta gösteriyor. Oyun baştaki soru ile başlıyor. O sorunun cevabı kimde ise onun aradığı cevaptan devam ederek sona ulaşılır. Sona kalan kutunun aradığı cevabı noktalı yere yazmalıyız.

9 x 7 kimde?

18	
6 x 7 kimde?	

81	
2 x 9 kimde?	


24	
9 x 5 kimde?	

36	
9 x 8 kimde?	

60	
6 x 6 kimde?	

63	
9 x 3 kimde?	

16	
4 x 5 kimde?	

42	
7 x 7 kimde?	

27	
3 x 8 kimde?	

20	
6 x 10 kimde?	

45	
9 x 9 kimde?	

49	
8 x 2 kimde?	

..... bende

## ... BENDE .... KİMDE? (Çarpma)

Her kutu, kendinde olan cevabı üstte aradığı cevabı altta gösteriyor. Oyun baştaki soru ile başlıyor. O sorunun cevabı kimde ise onun aradığı cevaptan devam ederek sona ulaşılır. Sona kalan kutunun aradığı cevabı noktalı yere yazmalıyız.

7 x 6 kimde?

56	
4 x 9 kimde?	

60	
3 x 5 kimde?	

24	
7 x 9 kimde?	

36	
3 x 6 kimde?	

32	
6 x 4 kimde?	

40	
6 x 10 kimde?	

30	
4 x 10 kimde?	

42	
4 x 8 kimde?	

18	
8 x 8 kimde?	

15	
8 x 6 kimde?	

48	
8 x 7 kimde?	

63	
6 x 5 kimde?	

64 bende

## ... BENDE .... KİMDE? (Çarpma)

Her kutu, kendinde olan cevabı üstte aradığı cevabı altta gösteriyor. Oyun baştaki soru ile başlıyor. O sorunun cevabı kimde ise onun aradığı cevaptan devam ederek sona ulaşılır. Sona kalan kutunun aradığı cevabı noktalı yere yazmalıyız.

9 x 7 kimde?

18	
6 x 7 kimde?	

81	
2 x 9 kimde?	


24	
9 x 5 kimde?	

36	
9 x 8 kimde?	

60	
6 x 6 kimde?	

63	
9 x 3 kimde?	

16	
4 x 5 kimde?	

42	
7 x 7 kimde?	

27	
3 x 8 kimde?	

20	
6 x 10 kimde?	

45	
9 x 9 kimde?	

49	
8 x 2 kimde?	

72 bende