


... BENDE KİMDE? (Çarpma)

Her kutu, kendinde olan cevabı üstte aradığı cevabı altta gösteriyor. Oyun baştaki soru ile başlıyor. O sorunun cevabı kimde ise onun aradığı cevaptan devam ederek sona ulaşılır. Sona kalan kutunun aradığı cevabı noktalı yere yazmalıyız.

4 x 6 kimde?

63	
5 x 5 kimde?	

56	
8 x 10 kimde?	

80	
10 x 3 kimde?	


18	
8 x 2 kimde?	

30	
10 x 6 kimde?	

20	
7 x 8 kimde?	

21	
9 x 2 kimde?	

60	
9 x 7 kimde?	

70	
3 x 7 kimde?	

90	
5 x 4 kimde?	

16	
9 x 10 kimde?	

24	
10 x 7 kimde?	

..... bende

... BENDE KİMDE? (Çarpma)

Her kutu, kendinde olan cevabı üstte aradığı cevabı altta gösteriyor. Oyun baştaki soru ile başlıyor. O sorunun cevabı kimde ise onun aradığı cevaptan devam ederek sona ulaşılır. Sona kalan kutunun aradığı cevabı noktalı yere yazmalıyız.

10 x 8 kimde?

90	
3 x 10 kimde?	

60	
7 x 7 kimde?	

15	
10 x 6 kimde?	

36	
9 x 5 kimde?	


35	
5 x 3 kimde?	

48	
8 x 8 kimde?	

45	
9 x 10 kimde?	

40	
4 x 9 kimde?	

80	
10 x 4 kimde?	

27	
5 x 7 kimde?	

64	
9 x 3 kimde?	

30	
6 x 8 kimde?	

..... bende

.... Bende Kimde Çarpma 69


... BENDE KİMDE? (Çarpma)

Her kutu, kendinde olan cevabı üstte aradığı cevabı altta gösteriyor. Oyun baştaki soru ile başlıyor. O sorunun cevabı kimde ise onun aradığı cevaptan devam ederek sona ulaşılır. Sona kalan kutunun aradığı cevabı noktalı yere yazmalıyız.

4 x 6 kimde?

63	
5 x 5 kimde?	

56	
8 x 10 kimde?	

80	
10 x 3 kimde?	

18	
8 x 2 kimde?	

30	
10 x 6 kimde?	

20	
7 x 8 kimde?	

21	
9 x 2 kimde?	

60	
9 x 7 kimde?	

70	
3 x 7 kimde?	

90	
5 x 4 kimde?	

16	
9 x 10 kimde?	

24	
10 x 7 kimde?	

25 bende

... BENDE KİMDE? (Çarpma)

Her kutu, kendinde olan cevabı üstte aradığı cevabı altta gösteriyor. Oyun baştaki soru ile başlıyor. O sorunun cevabı kimde ise onun aradığı cevaptan devam ederek sona ulaşılır. Sona kalan kutunun aradığı cevabı noktalı yere yazmalıyız.

10 x 8 kimde?

90	
3 x 10 kimde?	

60	
7 x 7 kimde?	

15	
10 x 6 kimde?	

36	
9 x 5 kimde?	


35	
5 x 3 kimde?	

48	
8 x 8 kimde?	

45	
9 x 10 kimde?	

40	
4 x 9 kimde?	

80	
10 x 4 kimde?	

27	
5 x 7 kimde?	

64	
9 x 3 kimde?	

30	
6 x 8 kimde?	

49 bende