


... BENDE KİMDE? (Çarpma)

Her kutu, kendinde olan cevabı üstte aradığı cevabı altta gösteriyor. Oyun baştaki soru ile başlıyor. O sorunun cevabı kimde ise onun aradığı cevaptan devam ederek sona ulaşılır. Sona kalan kutunun aradığı cevabı noktalı yere yazmalıyız.


9 x 3 kimde?

100	
8 x 5 kimde?	

70	
7 x 8 kimde?	


40	
10 x 5 kimde?	

50	
8 x 10 kimde?	

72	
5 x 7 kimde?	

18	
10 x 10 kimde?	

90	
6 x 6 kimde?	

27	
2 x 9 kimde?	

36	
6 x 8 kimde?	

56	
10 x 9 kimde?	

80	
7 x 10 kimde?	

48	
8 x 9 kimde?	

..... bende

... BENDE KİMDE? (Çarpma)

Her kutu, kendinde olan cevabı üstte aradığı cevabı altta gösteriyor. Oyun baştaki soru ile başlıyor. O sorunun cevabı kimde ise onun aradığı cevaptan devam ederek sona ulaşılır. Sona kalan kutunun aradığı cevabı noktalı yere yazmalıyız.

10 x 8 kimde?

45	
9 x 10 kimde?	

48	
8 x 7 kimde?	

40	
4 x 9 kimde?	

28	
8 x 8 kimde?	

56	
9 x 3 kimde?	

30	
6 x 8 kimde?	

15	
10 x 6 kimde?	

64	
5 x 3 kimde?	

36	
9 x 5 kimde?	

80	
10 x 4 kimde?	

27	
4 x 7 kimde?	

90	
3 x 10 kimde?	

..... bende
.... Bende Kimde Çarpma 7


... BENDE KİMDE? (Çarpma)

Her kutu, kendinde olan cevabı üstte aradığı cevabı altta gösteriyor. Oyun baştaki soru ile başlıyor. O sorunun cevabı kimde ise onun aradığı cevaptan devam ederek sona ulaşılır. Sona kalan kutunun aradığı cevabı noktalı yere yazmalıyız.


9 x 3 kimde?

100	
8 x 5 kimde?	

70	
7 x 8 kimde?	


40	
10 x 5 kimde?	

50	
8 x 10 kimde?	

72	
5 x 7 kimde?	

18	
10 x 10 kimde?	


90	
6 x 6 kimde?	

27	
2 x 9 kimde?	

36	
6 x 8 kimde?	

56	
10 x 9 kimde?	

80	
7 x 10 kimde?	

48	
8 x 9 kimde?	

35 bende

... BENDE KİMDE? (Çarpma)

Her kutu, kendinde olan cevabı üstte aradığı cevabı altta gösteriyor. Oyun baştaki soru ile başlıyor. O sorunun cevabı kimde ise onun aradığı cevaptan devam ederek sona ulaşılır. Sona kalan kutunun aradığı cevabı noktalı yere yazmalıyız.

10 x 8 kimde?

45	
9 x 10 kimde?	

48	
8 x 7 kimde?	

40	
4 x 9 kimde?	

28	
8 x 8 kimde?	

56	
9 x 3 kimde?	

30	
6 x 8 kimde?	

15	
10 x 6 kimde?	

64	
5 x 3 kimde?	

36	
9 x 5 kimde?	

80	
10 x 4 kimde?	

27	
4 x 7 kimde?	

90	
3 x 10 kimde?	

60 bende

.... Bende Kimde Çarpma 7