

... BENDE KİMDE? (Çarpma)

Her kutu, kendinde olan cevabı üstte aradığı cevabı altta gösteriyor. Oyun baştaki soru ile başlıyor. O sorunun cevabı kimde ise onun aradığı cevaptan devam ederek sona ulaşılır. Sona kalan kutunun aradığı cevabı noktalı yere yazmalıyız.

2 x 10 kimde?

54	
7 x 7 kimde?	

80	
6 x 10 kimde?	

20	
9 x 2 kimde?	

90	
10 x 10 kimde?	

60	
6 x 7 kimde?	

18	
10 x 9 kimde?	

40	
7 x 10 kimde?	

49	
3 x 10 kimde?	

42	
5 x 5 kimde?	

30	
10 x 8 kimde?	

100	
8 x 5 kimde?	

70	
6 x 9 kimde?	


..... bende

... BENDE KİMDE? (Çarpma)

Her kutu, kendinde olan cevabı üstte aradığı cevabı altta gösteriyor. Oyun baştaki soru ile başlıyor. O sorunun cevabı kimde ise onun aradığı cevaptan devam ederek sona ulaşılır. Sona kalan kutunun aradığı cevabı noktalı yere yazmalıyız.

8 x 7 kimde?

21	
7 x 2 kimde?	

42	
5 x 7 kimde?	


18	
9 x 10 kimde?	

40	
4 x 6 kimde?	

50	
8 x 2 kimde?	

20	
10 x 7 kimde?	

14	
9 x 2 kimde?	

70	
3 x 7 kimde?	

24	
10 x 2 kimde?	

16	
7 x 6 kimde?	

90	
5 x 10 kimde?	

56	
4 x 10 kimde?	

..... bende

.... Bende Kimde Çarpma 71

... BENDE KİMDE? (Çarpma)


Her kutu, kendinde olan cevabı üstte aradığı cevabı altta gösteriyor. Oyun baştaki soru ile başlıyor. O sorunun cevabı kimde ise onun aradığı cevaptan devam ederek sona ulaşılır. Sona kalan kutunun aradığı cevabı noktalı yere yazmalıyız.

2 x 10 kimde?

54	
7 x 7 kimde?	

80	
6 x 10 kimde?	

20	
9 x 2 kimde?	

90	
10 x 10 kimde?	

60	
6 x 7 kimde?	

18	
10 x 9 kimde?	

40	
7 x 10 kimde?	

49	
3 x 10 kimde?	

42	
5 x 5 kimde?	

30	
10 x 8 kimde?	

100	
8 x 5 kimde?	


70	
6 x 9 kimde?	


25 bende

... BENDE KİMDE? (Çarpma)

Her kutu, kendinde olan cevabı üstte aradığı cevabı altta gösteriyor. Oyun baştaki soru ile başlıyor. O sorunun cevabı kimde ise onun aradığı cevaptan devam ederek sona ulaşılır. Sona kalan kutunun aradığı cevabı noktalı yere yazmalıyız.

8 x 7 kimde?

21	
7 x 2 kimde?	

42	
5 x 7 kimde?	

18	
9 x 10 kimde?	

40	
4 x 6 kimde?	

50	
8 x 2 kimde?	

20	
10 x 7 kimde?	

14	
9 x 2 kimde?	

70	
3 x 7 kimde?	

24	
10 x 2 kimde?	

16	
7 x 6 kimde?	

90	
5 x 10 kimde?	

56	
4 x 10 kimde?	

35 bende