

... BENDE KİMDE? (Çarpma)

Her kutu, kendinde olan cevabı üstte aradığı cevabı altta gösteriyor. Oyun baştaki soru ile başlıyor. O sorunun cevabı kimde ise onun aradığı cevaptan devam ederek sona ulaşılır. Sona kalan kutunun aradığı cevabı noktalı yere yazmalıyız.

5 x 4 kimde?

14	
10 x 8 kimde?	

12	
5 x 7 kimde?	


30	
9 x 3 kimde?	

16	
4 x 8 kimde?	

32	
10 x 3 kimde?	

80	
7 x 4 kimde?	

18	
8 x 9 kimde?	

72	
8 x 8 kimde?	

35	
2 x 8 kimde?	

64	
2 x 7 kimde?	

27	
6 x 3 kimde?	

20	
2 x 6 kimde?	

..... bende


... BENDE KİMDE? (Çarpma)

Her kutu, kendinde olan cevabı üstte aradığı cevabı altta gösteriyor. Oyun baştaki soru ile başlıyor. O sorunun cevabı kimde ise onun aradığı cevaptan devam ederek sona ulaşılır. Sona kalan kutunun aradığı cevabı noktalı yere yazmalıyız.

3 x 7 kimde?

90	
7 x 6 kimde?	

36	
9 x 10 kimde?	

72	
5 x 7 kimde?	

70	
10 x 4 kimde?	

12	
8 x 9 kimde?	

21	
7 x 2 kimde?	

48	
4 x 9 kimde?	

14	
3 x 9 kimde?	

35	
7 x 10 kimde?	

18	
2 x 6 kimde?	

27	
6 x 3 kimde?	

40	
8 x 6 kimde?	

..... bende

.... Bende Kimde Çarpma 73

... BENDE KİMDE? (Çarpma)

Her kutu, kendinde olan cevabı üstte aradığı cevabı altta gösteriyor. Oyun baştaki soru ile başlıyor. O sorunun cevabı kimde ise onun aradığı cevaptan devam ederek sona ulaşılır. Sona kalan kutunun aradığı cevabı noktalı yere yazmalıyız.

5 x 4 kimde?

14	
10 x 8 kimde?	

12	
5 x 7 kimde?	


30	
9 x 3 kimde?	

16	
4 x 8 kimde?	

32	
10 x 3 kimde?	

80	
7 x 4 kimde?	

18	
8 x 9 kimde?	

72	
8 x 8 kimde?	

35	
2 x 8 kimde?	

64	
2 x 7 kimde?	

27	
6 x 3 kimde?	

20	
2 x 6 kimde?	

28 bende


... BENDE KİMDE? (Çarpma)

Her kutu, kendinde olan cevabı üstte aradığı cevabı altta gösteriyor. Oyun baştaki soru ile başlıyor. O sorunun cevabı kimde ise onun aradığı cevaptan devam ederek sona ulaşılır. Sona kalan kutunun aradığı cevabı noktalı yere yazmalıyız.

3 x 7 kimde?

90	
7 x 6 kimde?	

36	
9 x 10 kimde?	

72	
5 x 7 kimde?	

70	
10 x 4 kimde?	

12	
8 x 9 kimde?	

21	
7 x 2 kimde?	

48	
4 x 9 kimde?	

14	
3 x 9 kimde?	

35	
7 x 10 kimde?	

18	
2 x 6 kimde?	

27	
6 x 3 kimde?	

40	
8 x 6 kimde?	

42 bende

.... Bende Kimde Çarpma 73