



... BENDE KİMDE? (Çarpma)

Her kutu, kendinde olan cevabı üstte aradığı cevabı altta gösteriyor. Oyun baştaki soru ile başlıyor. O sorunun cevabı kimde ise onun aradığı cevaptan devam ederek sona ulaşılır. Sona kalan kutunun aradığı cevabı noktalı yere yazmalıyız.


6 x 5 kimde?


20	
2 x 7 kimde?	

72	
8 x 8 kimde?	

100	
6 x 4 kimde?	

21	
6 x 6 kimde?	

80	
4 x 7 kimde?	

27	
8 x 9 kimde?	

18	
10 x 10 kimde?	

64	
10 x 2 kimde?	

28	
9 x 2 kimde?	

14	
7 x 3 kimde?	

24	
9 x 3 kimde?	

30	
10 x 8 kimde?	

..... bende

... BENDE KİMDE? (Çarpma)

Her kutu, kendinde olan cevabı üstte aradığı cevabı altta gösteriyor. Oyun baştaki soru ile başlıyor. O sorunun cevabı kimde ise onun aradığı cevaptan devam ederek sona ulaşılır. Sona kalan kutunun aradığı cevabı noktalı yere yazmalıyız.

6 x 10 kimde?

45	
8 x 7 kimde?	

40	
7 x 7 kimde?	

24	
10 x 7 kimde?	

25	
6 x 4 kimde?	

49	
5 x 10 kimde?	

64	
5 x 8 kimde?	

20	
8 x 4 kimde?	

70	
5 x 4 kimde?	

56	
9 x 2 kimde?	

60	
5 x 9 kimde?	

50	
5 x 5 kimde?	


18	
8 x 8 kimde?	


..... bende

... BENDE KİMDE? (Çarpma)

Her kutu, kendinde olan cevabı üstte aradığı cevabı altta gösteriyor. Oyun baştaki soru ile başlıyor. O sorunun cevabı kimde ise onun aradığı cevaptan devam ederek sona ulaşılır. Sona kalan kutunun aradığı cevabı noktalı yere yazmalıyız.


6 x 5 kimde?


20	
2 x 7 kimde?	

72	
8 x 8 kimde?	

100	
6 x 4 kimde?	

21	
6 x 6 kimde?	

80	
4 x 7 kimde?	

27	
8 x 9 kimde?	

18	
10 x 10 kimde?	

64	
10 x 2 kimde?	

28	
9 x 2 kimde?	

14	
7 x 3 kimde?	

24	
9 x 3 kimde?	

30	
10 x 8 kimde?	

36 bende

... BENDE KİMDE? (Çarpma)

Her kutu, kendinde olan cevabı üstte aradığı cevabı altta gösteriyor. Oyun baştaki soru ile başlıyor. O sorunun cevabı kimde ise onun aradığı cevaptan devam ederek sona ulaşılır. Sona kalan kutunun aradığı cevabı noktalı yere yazmalıyız.

6 x 10 kimde?

45	
8 x 7 kimde?	

40	
7 x 7 kimde?	

24	
10 x 7 kimde?	

25	
6 x 4 kimde?	

49	
5 x 10 kimde?	

64	
5 x 8 kimde?	

20	
8 x 4 kimde?	

70	
5 x 4 kimde?	

56	
9 x 2 kimde?	

60	
5 x 9 kimde?	

50	
5 x 5 kimde?	

18	
8 x 8 kimde?	

32 bende