



## ... BENDE .... KİMDE? (Çarpma)

Her kutu, kendinde olan cevabı üstte aradığı cevabı altta gösteriyor. Oyun baştaki soru ile başlıyor. O sorunun cevabı kimde ise onun aradığı cevaptan devam ederek sona ulaşılır. Sona kalan kutunun aradığı cevabı noktalı yere yazmalıyız.

6 x 5 kimde?


81	
3 x 8 kimde?	

32	
7 x 7 kimde?	

20	
5 x 8 kimde?	

18	
5 x 3 kimde?	

90	
9 x 9 kimde?	

42	
5 x 4 kimde?	

24	
8 x 2 kimde?	

15	
6 x 7 kimde?	

16	
8 x 4 kimde?	

40	
7 x 4 kimde?	

28	
9 x 10 kimde?	

30	
3 x 6 kimde?	

..... bende

## ... BENDE .... KİMDE? (Çarpma)

Her kutu, kendinde olan cevabı üstte aradığı cevabı altta gösteriyor. Oyun baştaki soru ile başlıyor. O sorunun cevabı kimde ise onun aradığı cevaptan devam ederek sona ulaşılır. Sona kalan kutunun aradığı cevabı noktalı yere yazmalıyız.

8 x 5 kimde?

16	
2 x 6 kimde?	

36	
5 x 9 kimde?	

12	
7 x 3 kimde?	


30	
9 x 2 kimde?	


56	
10 x 7 kimde?	

21	
7 x 8 kimde?	

40	
8 x 2 kimde?	

32	
4 x 6 kimde?	

45	
8 x 4 kimde?	

20	
6 x 5 kimde?	

18	
6 x 6 kimde?	

70	
4 x 5 kimde?	

..... bende


.... Bende .... Kimde Çarpma 77

## ... BENDE .... KİMDE? (Çarpma)

Her kutu, kendinde olan cevabı üstte aradığı cevabı altta gösteriyor. Oyun baştaki soru ile başlıyor. O sorunun cevabı kimde ise onun aradığı cevaptan devam ederek sona ulaşılır. Sona kalan kutunun aradığı cevabı noktalı yere yazmalıyız.

6 x 5 kimde?

81	
3 x 8 kimde?	

32	
7 x 7 kimde?	


20	
5 x 8 kimde?	

18	
5 x 3 kimde?	

90	
9 x 9 kimde?	

42	
5 x 4 kimde?	

24	
8 x 2 kimde?	

15	
6 x 7 kimde?	

16	
8 x 4 kimde?	

40	
7 x 4 kimde?	

28	
9 x 10 kimde?	

30	
3 x 6 kimde?	


49 bende

## ... BENDE .... KİMDE? (Çarpma)

Her kutu, kendinde olan cevabı üstte aradığı cevabı altta gösteriyor. Oyun baştaki soru ile başlıyor. O sorunun cevabı kimde ise onun aradığı cevaptan devam ederek sona ulaşılır. Sona kalan kutunun aradığı cevabı noktalı yere yazmalıyız.

8 x 5 kimde?

16	
2 x 6 kimde?	

36	
5 x 9 kimde?	

12	
7 x 3 kimde?	

30	
9 x 2 kimde?	

56	
10 x 7 kimde?	

21	
7 x 8 kimde?	

40	
8 x 2 kimde?	

32	
4 x 6 kimde?	

45	
8 x 4 kimde?	

20	
6 x 5 kimde?	

18	
6 x 6 kimde?	

70	
4 x 5 kimde?	

24 bende