

... BENDE KİMDE? (Çarpma)


Her kutu, kendinde olan cevabı üstte aradığı cevabı altta gösteriyor. Oyun baştaki soru ile başlıyor. O sorunun cevabı kimde ise onun aradığı cevaptan devam ederek sona ulaşılır. Sona kalan kutunun aradığı cevabı noktalı yere yazmalıyız.

8 x 7 kimde?

20	
5 x 10 kimde?	

54	
6 x 5 kimde?	

56	
5 x 8 kimde?	

72	
7 x 6 kimde?	

30	
3 x 6 kimde?	

15	
9 x 6 kimde?	

40	
7 x 5 kimde?	

42	
7 x 10 kimde?	

18	
4 x 5 kimde?	

70	
4 x 6 kimde?	

24	
3 x 5 kimde?	

35	
8 x 9 kimde?	

..... bende

... BENDE KİMDE? (Çarpma)

Her kutu, kendinde olan cevabı üstte aradığı cevabı altta gösteriyor. Oyun baştaki soru ile başlıyor. O sorunun cevabı kimde ise onun aradığı cevaptan devam ederek sona ulaşılır. Sona kalan kutunun aradığı cevabı noktalı yere yazmalıyız.

5 x 5 kimde?

30	
8 x 8 kimde?	

25	
8 x 10 kimde?	


81	
10 x 4 kimde?	

80	
4 x 6 kimde?	

36	
6 x 5 kimde?	

60	
3 x 6 kimde?	

18	
9 x 4 kimde?	

50	
7 x 9 kimde?	

64	
5 x 7 kimde?	

35	
5 x 10 kimde?	

24	
10 x 6 kimde?	

63	
9 x 9 kimde?	

..... bende

.... Bende Kimde Çarpma 80

... BENDE KİMDE? (Çarpma)

Her kutu, kendinde olan cevabı üstte aradığı cevabı altta gösteriyor. Oyun baştaki soru ile başlıyor. O sorunun cevabı kimde ise onun aradığı cevaptan devam ederek sona ulaşılır. Sona kalan kutunun aradığı cevabı noktalı yere yazmalıyız.

8 x 7 kimde?

20	
5 x 10 kimde?	

54	
6 x 5 kimde?	

56	
5 x 8 kimde?	

72	
7 x 6 kimde?	

30	
3 x 6 kimde?	

15	
9 x 6 kimde?	

40	
7 x 5 kimde?	

42	
7 x 10 kimde?	

18	
4 x 5 kimde?	

70	
4 x 6 kimde?	

24	
3 x 5 kimde?	

35	
8 x 9 kimde?	

50 bende

... BENDE KİMDE? (Çarpma)

Her kutu, kendinde olan cevabı üstte aradığı cevabı altta gösteriyor. Oyun baştaki soru ile başlıyor. O sorunun cevabı kimde ise onun aradığı cevaptan devam ederek sona ulaşılır. Sona kalan kutunun aradığı cevabı noktalı yere yazmalıyız.

5 x 5 kimde?

30	
8 x 8 kimde?	

25	
8 x 10 kimde?	


81	
10 x 4 kimde?	

80	
4 x 6 kimde?	

36	
6 x 5 kimde?	


60	
3 x 6 kimde?	

18	
9 x 4 kimde?	

50	
7 x 9 kimde?	

64	
5 x 7 kimde?	

35	
5 x 10 kimde?	

24	
10 x 6 kimde?	

63	
9 x 9 kimde?	

40 bende

.... Bende Kimde Çarpma 80