

... BENDE KİMDE? (Çarpma)

Her kutu, kendinde olan cevabı üstte aradığı cevabı altta gösteriyor. Oyun baştaki soru ile başlıyor. O sorunun cevabı kimde ise onun aradığı cevaptan devam ederek sona ulaşılır. Sona kalan kutunun aradığı cevabı noktalı yere yazmalıyız.


2 x 10 kimde?

42	
3 x 9 kimde?	

36	
7 x 9 kimde?	

54	
6 x 7 kimde?	

80	
9 x 9 kimde?	

72	
5 x 5 kimde?	

81	
7 x 4 kimde?	

20	
8 x 2 kimde?	

28	
9 x 4 kimde?	

25	
5 x 7 kimde?	

63	
6 x 9 kimde?	

16	
10 x 8 kimde?	

27	
9 x 8 kimde?	

..... bende

... BENDE KİMDE? (Çarpma)

Her kutu, kendinde olan cevabı üstte aradığı cevabı altta gösteriyor. Oyun baştaki soru ile başlıyor. O sorunun cevabı kimde ise onun aradığı cevaptan devam ederek sona ulaşılır. Sona kalan kutunun aradığı cevabı noktalı yere yazmalıyız.

2 x 8 kimde?

28	
3 x 7 kimde?	

25	
9 x 5 kimde?	

14	
10 x 9 kimde?	

21	
5 x 7 kimde?	

27	
7 x 2 kimde?	

40	
7 x 4 kimde?	

48	
10 x 4 kimde?	

90	
3 x 5 kimde?	

16	
5 x 5 kimde?	

54	
9 x 3 kimde?	

45	
6 x 8 kimde?	

35	
6 x 9 kimde?	

..... bende

... BENDE KİMDE? (Çarpma)

Her kutu, kendinde olan cevabı üstte aradığı cevabı altta gösteriyor. Oyun baştaki soru ile başlıyor. O sorunun cevabı kimde ise onun aradığı cevaptan devam ederek sona ulaşılır. Sona kalan kutunun aradığı cevabı noktalı yere yazmalıyız.


2 x 10 kimde?

42	
3 x 9 kimde?	

36	
7 x 9 kimde?	

54	
6 x 7 kimde?	

80	
9 x 9 kimde?	

72	
5 x 5 kimde?	

81	
7 x 4 kimde?	

20	
8 x 2 kimde?	

28	
9 x 4 kimde?	

25	
5 x 7 kimde?	

63	
6 x 9 kimde?	

16	
10 x 8 kimde?	

27	
9 x 8 kimde?	

35 bende

... BENDE KİMDE? (Çarpma)


Her kutu, kendinde olan cevabı üstte aradığı cevabı altta gösteriyor. Oyun baştaki soru ile başlıyor. O sorunun cevabı kimde ise onun aradığı cevaptan devam ederek sona ulaşılır. Sona kalan kutunun aradığı cevabı noktalı yere yazmalıyız.


2 x 8 kimde?

28	
3 x 7 kimde?	

25	
9 x 5 kimde?	

14	
10 x 9 kimde?	

21	
5 x 7 kimde?	

27	
7 x 2 kimde?	

40	
7 x 4 kimde?	

48	
10 x 4 kimde?	

90	
3 x 5 kimde?	

16	
5 x 5 kimde?	

54	
9 x 3 kimde?	

45	
6 x 8 kimde?	

35	
6 x 9 kimde?	

15 bende