


## ... BENDE .... KİMDE? (Çarpma)

Her kutu, kendinde olan cevabı üstte aradığı cevabı altta gösteriyor. Oyun baştaki soru ile başlıyor. O sorunun cevabı kimde ise onun aradığı cevaptan devam ederek sona ulaşılır. Sona kalan kutunun aradığı cevabı noktalı yere yazmalıyız.

9 x 3 kimde?

36	
6 x 8 kimde?	

27	
2 x 9 kimde?	


40	
10 x 5 kimde?	

48	
8 x 9 kimde?	

90	
6 x 6 kimde?	

18	
10 x 10 kimde?	

70	
7 x 8 kimde?	

72	
8 x 4 kimde?	

56	
3 x 10 kimde?	

30	
10 x 9 kimde?	

100	
8 x 5 kimde?	


50	
7 x 10 kimde?	

..... bende

## ... BENDE .... KİMDE? (Çarpma)

Her kutu, kendinde olan cevabı üstte aradığı cevabı altta gösteriyor. Oyun baştaki soru ile başlıyor. O sorunun cevabı kimde ise onun aradığı cevaptan devam ederek sona ulaşılır. Sona kalan kutunun aradığı cevabı noktalı yere yazmalıyız.

5 x 4 kimde?


28	
6 x 8 kimde?	

42	
10 x 5 kimde?	


20	
4 x 8 kimde?	

14	
7 x 6 kimde?	

32	
2 x 9 kimde?	

48	
3 x 5 kimde?	

45	
9 x 4 kimde?	

36	
7 x 2 kimde?	

18	
4 x 7 kimde?	

30	
5 x 9 kimde?	

15	
3 x 10 kimde?	

50	
9 x 8 kimde?	


..... bende


## ... BENDE .... KİMDE? (Çarpma)

Her kutu, kendinde olan cevabı üstte aradığı cevabı altta gösteriyor. Oyun baştaki soru ile başlıyor. O sorunun cevabı kimde ise onun aradığı cevaptan devam ederek sona ulaşılır. Sona kalan kutunun aradığı cevabı noktalı yere yazmalıyız.

9 x 3 kimde?

36	
6 x 8 kimde?	

27	
2 x 9 kimde?	


40	
10 x 5 kimde?	

48	
8 x 9 kimde?	

90	
6 x 6 kimde?	

18	
10 x 10 kimde?	

70	
7 x 8 kimde?	

72	
8 x 4 kimde?	

56	
3 x 10 kimde?	

30	
10 x 9 kimde?	

100	
8 x 5 kimde?	


50	
7 x 10 kimde?	

32 bende

## ... BENDE .... KİMDE? (Çarpma)

Her kutu, kendinde olan cevabı üstte aradığı cevabı altta gösteriyor. Oyun baştaki soru ile başlıyor. O sorunun cevabı kimde ise onun aradığı cevaptan devam ederek sona ulaşılır. Sona kalan kutunun aradığı cevabı noktalı yere yazmalıyız.

5 x 4 kimde?


28	
6 x 8 kimde?	

42	
10 x 5 kimde?	

20	
4 x 8 kimde?	

14	
7 x 6 kimde?	

32	
2 x 9 kimde?	

48	
3 x 5 kimde?	

45	
9 x 4 kimde?	

36	
7 x 2 kimde?	

18	
4 x 7 kimde?	

30	
5 x 9 kimde?	

15	
3 x 10 kimde?	

50	
9 x 8 kimde?	

72 bende