

## ... BENDE .... KİMDE? (Çarpma)

Her kutu, kendinde olan cevabı üstte aradığı cevabı altta gösteriyor. Oyun baştaki soru ile başlıyor. O sorunun cevabı kimde ise onun aradığı cevaptan devam ederek sona ulaşılır. Sona kalan kutunun aradığı cevabı noktalı yere yazmalıyız.

9 x 2 kimde?

42	
5 x 5 kimde?	

100	
8 x 5 kimde?	

60	
6 x 7 kimde?	

18	
10 x 9 kimde?	

30	
10 x 8 kimde?	

25	
7 x 9 kimde?	


40	
7 x 10 kimde?	

80	
6 x 10 kimde?	

54	
7 x 7 kimde?	

49	
3 x 10 kimde?	

90	
10 x 10 kimde?	

70	
6 x 9 kimde?	


..... bende

## ... BENDE .... KİMDE? (Çarpma)

Her kutu, kendinde olan cevabı üstte aradığı cevabı altta gösteriyor. Oyun baştaki soru ile başlıyor. O sorunun cevabı kimde ise onun aradığı cevaptan devam ederek sona ulaşılır. Sona kalan kutunun aradığı cevabı noktalı yere yazmalıyız.


6 x 8 kimde?

48	
10 x 4 kimde?	

64	
3 x 7 kimde?	


21	
8 x 2 kimde?	

28	
9 x 4 kimde?	


56	
4 x 5 kimde?	

40	
9 x 3 kimde?	

20	
10 x 5 kimde?	

16	
5 x 7 kimde?	

35	
3 x 6 kimde?	

27	
4 x 7 kimde?	

50	
8 x 8 kimde?	

36	
8 x 7 kimde?	

..... bende

## ... BENDE .... KİMDE? (Çarpma)

Her kutu, kendinde olan cevabı üstte aradığı cevabı altta gösteriyor. Oyun baştaki soru ile başlıyor. O sorunun cevabı kimde ise onun aradığı cevaptan devam ederek sona ulaşılır. Sona kalan kutunun aradığı cevabı noktalı yere yazmalıyız.

9 x 2 kimde?

42	
5 x 5 kimde?	

100	
8 x 5 kimde?	

60	
6 x 7 kimde?	


18	
10 x 9 kimde?	

30	
10 x 8 kimde?	

25	
7 x 9 kimde?	

40	
7 x 10 kimde?	

80	
6 x 10 kimde?	

54	
7 x 7 kimde?	

49	
3 x 10 kimde?	

90	
10 x 10 kimde?	

70	
6 x 9 kimde?	

63 bende

## ... BENDE .... KİMDE? (Çarpma)

Her kutu, kendinde olan cevabı üstte aradığı cevabı altta gösteriyor. Oyun baştaki soru ile başlıyor. O sorunun cevabı kimde ise onun aradığı cevaptan devam ederek sona ulaşılır. Sona kalan kutunun aradığı cevabı noktalı yere yazmalıyız.

6 x 8 kimde?

48	
10 x 4 kimde?	

64	
3 x 7 kimde?	

21	
8 x 2 kimde?	

28	
9 x 4 kimde?	


56	
4 x 5 kimde?	

40	
9 x 3 kimde?	


20	
10 x 5 kimde?	

16	
5 x 7 kimde?	

35	
3 x 6 kimde?	

27	
4 x 7 kimde?	

50	
8 x 8 kimde?	

36	
8 x 7 kimde?	

18 bende