

... BENDE KİMDE? (Çarpma)

Her kutu, kendinde olan cevabı üstte aradığı cevabı altta gösteriyor. Oyun baştaki soru ile başlıyor. O sorunun cevabı kimde ise onun aradığı cevaptan devam ederek sona ulaşılır. Sona kalan kutunun aradığı cevabı noktalı yere yazmalıyız.


9 x 3 kimde?

18	
6 x 7 kimde?	

20	
9 x 6 kimde?	

30	
3 x 7 kimde?	

27	
2 x 10 kimde?	

42	
6 x 8 kimde?	

80	
7 x 10 kimde?	

70	
8 x 8 kimde?	

36	
9 x 5 kimde?	

48	
6 x 6 kimde?	

54	
8 x 10 kimde?	

64	
2 x 9 kimde?	

45	
10 x 3 kimde?	

..... bende

... BENDE KİMDE? (Çarpma)

Her kutu, kendinde olan cevabı üstte aradığı cevabı altta gösteriyor. Oyun baştaki soru ile başlıyor. O sorunun cevabı kimde ise onun aradığı cevaptan devam ederek sona ulaşılır. Sona kalan kutunun aradığı cevabı noktalı yere yazmalıyız.

8 x 9 kimde?

54	
10 x 2 kimde?	

15	
9 x 9 kimde?	


63	
9 x 5 kimde?	

36	
7 x 9 kimde?	

64	
7 x 7 kimde?	

48	
3 x 9 kimde?	

20	
10 x 6 kimde?	

72	
5 x 3 kimde?	

27	
6 x 6 kimde?	

81	
6 x 9 kimde?	

49	
8 x 6 kimde?	

60	
8 x 8 kimde?	

..... bende

... BENDE KİMDE? (Çarpma)

Her kutu, kendinde olan cevabı üstte aradığı cevabı altta gösteriyor. Oyun baştaki soru ile başlıyor. O sorunun cevabı kimde ise onun aradığı cevaptan devam ederek sona ulaşılır. Sona kalan kutunun aradığı cevabı noktalı yere yazmalıyız.


9 x 3 kimde?

18	
6 x 7 kimde?	

20	
9 x 6 kimde?	

30	
3 x 7 kimde?	

27	
2 x 10 kimde?	

42	
6 x 8 kimde?	

80	
7 x 10 kimde?	

70	
8 x 8 kimde?	

36	
9 x 5 kimde?	

48	
6 x 6 kimde?	

54	
8 x 10 kimde?	

64	
2 x 9 kimde?	

45	
10 x 3 kimde?	

21 bende

... BENDE KİMDE? (Çarpma)

Her kutu, kendinde olan cevabı üstte aradığı cevabı altta gösteriyor. Oyun baştaki soru ile başlıyor. O sorunun cevabı kimde ise onun aradığı cevaptan devam ederek sona ulaşılır. Sona kalan kutunun aradığı cevabı noktalı yere yazmalıyız.

8 x 9 kimde?

54	
10 x 2 kimde?	

15	
9 x 9 kimde?	


63	
9 x 5 kimde?	

36	
7 x 9 kimde?	

64	
7 x 7 kimde?	

48	
3 x 9 kimde?	

20	
10 x 6 kimde?	

72	
5 x 3 kimde?	

27	
6 x 6 kimde?	

81	
6 x 9 kimde?	

49	
8 x 6 kimde?	

60	
8 x 8 kimde?	

45 bende