

## ... BENDE .... KİMDE? (Çarpma)

Her kutu, kendinde olan cevabı üstte aradığı cevabı altta gösteriyor. Oyun baştaki soru ile başlıyor. O sorunun cevabı kimde ise onun aradığı cevaptan devam ederek sona ulaşılır. Sona kalan kutunun aradığı cevabı noktalı yere yazmalıyız.

10 x 4 kimde?

18	
9 x 10 kimde?	

20	
6 x 7 kimde?	

54	
2 x 6 kimde?	

90	
9 x 5 kimde?	

40	
3 x 10 kimde?	

72	
2 x 10 kimde?	

30	
3 x 5 kimde?	

15	
9 x 6 kimde?	

45	
8 x 6 kimde?	

42	
7 x 9 kimde?	

63	
9 x 2 kimde?	

12	
8 x 9 kimde?	

..... bende

## ... BENDE .... KİMDE? (Çarpma)

Her kutu, kendinde olan cevabı üstte aradığı cevabı altta gösteriyor. Oyun baştaki soru ile başlıyor. O sorunun cevabı kimde ise onun aradığı cevaptan devam ederek sona ulaşılır. Sona kalan kutunun aradığı cevabı noktalı yere yazmalıyız.

10 x 6 kimde?


16	
6 x 4 kimde?	

63	
9 x 9 kimde?	

60	
2 x 9 kimde?	

35	
5 x 10 kimde?	


81	
10 x 4 kimde?	

70	
7 x 9 kimde?	

50	
10 x 7 kimde?	

18	
5 x 7 kimde?	

15	
8 x 2 kimde?	

42	
3 x 5 kimde?	

40	
6 x 7 kimde?	

24	
2 x 7 kimde?	

..... bende

.... Bende .... Kimde Çarpma 97

## ... BENDE .... KİMDE? (Çarpma)

Her kutu, kendinde olan cevabı üstte aradığı cevabı altta gösteriyor. Oyun baştaki soru ile başlıyor. O sorunun cevabı kimde ise onun aradığı cevaptan devam ederek sona ulaşılır. Sona kalan kutunun aradığı cevabı noktalı yere yazmalıyız.

10 x 4 kimde?

18	
9 x 10 kimde?	

20	
6 x 7 kimde?	

54	
2 x 6 kimde?	

90	
9 x 5 kimde?	

40	
3 x 10 kimde?	

72	
2 x 10 kimde?	


30	
3 x 5 kimde?	

15	
9 x 6 kimde?	

45	
8 x 6 kimde?	

42	
7 x 9 kimde?	

63	
9 x 2 kimde?	

12	
8 x 9 kimde?	

48 bende

## ... BENDE .... KİMDE? (Çarpma)

Her kutu, kendinde olan cevabı üstte aradığı cevabı altta gösteriyor. Oyun baştaki soru ile başlıyor. O sorunun cevabı kimde ise onun aradığı cevaptan devam ederek sona ulaşılır. Sona kalan kutunun aradığı cevabı noktalı yere yazmalıyız.

10 x 6 kimde?


16	
6 x 4 kimde?	

63	
9 x 9 kimde?	

60	
2 x 9 kimde?	

35	
5 x 10 kimde?	


81	
10 x 4 kimde?	

70	
7 x 9 kimde?	


50	
10 x 7 kimde?	

18	
5 x 7 kimde?	

15	
8 x 2 kimde?	

42	
3 x 5 kimde?	

40	
6 x 7 kimde?	

24	
2 x 7 kimde?	

14 bende