

... BENDE KİMDE? (Çarpma)

Her kutu, kendinde olan cevabı üstte aradığı cevabı altta gösteriyor. Oyun baştaki soru ile başlıyor. O sorunun cevabı kimde ise onun aradığı cevaptan devam ederek sona ulaşılır. Sona kalan kutunun aradığı cevabı noktalı yere yazmalıyız.

7 x 6 kimde?

30	
6 x 9 kimde?	

24	
7 x 8 kimde?	

56	
6 x 5 kimde?	

27	
5 x 5 kimde?	

15	
8 x 5 kimde?	

40	
10 x 2 kimde?	

42	
4 x 7 kimde?	

100	
4 x 9 kimde?	

54	
3 x 5 kimde?	

28	
6 x 4 kimde?	

36	
9 x 3 kimde?	

20	
10 x 10 kimde?	

..... bende

... BENDE KİMDE? (Çarpma)

Her kutu, kendinde olan cevabı üstte aradığı cevabı altta gösteriyor. Oyun baştaki soru ile başlıyor. O sorunun cevabı kimde ise onun aradığı cevaptan devam ederek sona ulaşılır. Sona kalan kutunun aradığı cevabı noktalı yere yazmalıyız.

7 x 4 kimde?

54	
5 x 4 kimde?	

42	
9 x 6 kimde?	

28	
10 x 5 kimde?	

21	
3 x 5 kimde?	

18	
7 x 3 kimde?	

60	
10 x 3 kimde?	

25	
4 x 8 kimde?	

20	
6 x 10 kimde?	

50	
6 x 2 kimde?	

32	
2 x 9 kimde?	

12	
6 x 7 kimde?	

30	
5 x 5 kimde?	

..... bende

.... Bende Kimde Çarpma 98

... BENDE KİMDE? (Çarpma)


Her kutu, kendinde olan cevabı üstte aradığı cevabı altta gösteriyor. Oyun baştaki soru ile başlıyor. O sorunun cevabı kimde ise onun aradığı cevaptan devam ederek sona ulaşılır. Sona kalan kutunun aradığı cevabı noktalı yere yazmalıyız.

7 x 6 kimde?

30	
6 x 9 kimde?	


24	
7 x 8 kimde?	

56	
6 x 5 kimde?	


27	
5 x 5 kimde?	

15	
8 x 5 kimde?	

40	
10 x 2 kimde?	

42	
4 x 7 kimde?	

100	
4 x 9 kimde?	

54	
3 x 5 kimde?	

28	
6 x 4 kimde?	

36	
9 x 3 kimde?	

20	
10 x 10 kimde?	

25 bende

... BENDE KİMDE? (Çarpma)

Her kutu, kendinde olan cevabı üstte aradığı cevabı altta gösteriyor. Oyun baştaki soru ile başlıyor. O sorunun cevabı kimde ise onun aradığı cevaptan devam ederek sona ulaşılır. Sona kalan kutunun aradığı cevabı noktalı yere yazmalıyız.

7 x 4 kimde?

54	
5 x 4 kimde?	

42	
9 x 6 kimde?	

28	
10 x 5 kimde?	

21	
3 x 5 kimde?	

18	
7 x 3 kimde?	

60	
10 x 3 kimde?	

25	
4 x 8 kimde?	

20	
6 x 10 kimde?	

50	
6 x 2 kimde?	

32	
2 x 9 kimde?	

12	
6 x 7 kimde?	

30	
5 x 5 kimde?	

15 bende