

... BENDE KİMDE? (Çarpma)

Her kutu, kendinde olan cevabı üstte aradığı cevabı altta gösteriyor. Oyun baştaki soru ile başlıyor. O sorunun cevabı kimde ise onun aradığı cevaptan devam ederek sona ulaşılır. Sona kalan kutunun aradığı cevabı noktalı yere yazmalıyız.

10 x 9 kimde?

18	
9 x 3 kimde?	

100	
4 x 6 kimde?	

20	
9 x 8 kimde?	

56	
10 x 10 kimde?	

90	
9 x 7 kimde?	

40	
6 x 6 kimde?	

24	
6 x 7 kimde?	

72	
6 x 3 kimde?	

36	
8 x 7 kimde?	

27	
6 x 8 kimde?	

48	
5 x 8 kimde?	

63	
10 x 2 kimde?	

..... bende

... BENDE KİMDE? (Çarpma)


Her kutu, kendinde olan cevabı üstte aradığı cevabı altta gösteriyor. Oyun baştaki soru ile başlıyor. O sorunun cevabı kimde ise onun aradığı cevaptan devam ederek sona ulaşılır. Sona kalan kutunun aradığı cevabı noktalı yere yazmalıyız.

3 x 7 kimde?


28	
5 x 10 kimde?	

54	
10 x 2 kimde?	

81	
6 x 9 kimde?	

72	
9 x 9 kimde?	

48	
3 x 9 kimde?	

49	
8 x 6 kimde?	

50	
8 x 7 kimde?	

21	
4 x 7 kimde?	

20	
7 x 7 kimde?	

60	
8 x 9 kimde?	

30	
6 x 10 kimde?	

56	
10 x 3 kimde?	

..... bende

... BENDE KİMDE? (Çarpma)

Her kutu, kendinde olan cevabı üstte aradığı cevabı altta gösteriyor. Oyun baştaki soru ile başlıyor. O sorunun cevabı kimde ise onun aradığı cevaptan devam ederek sona ulaşılır. Sona kalan kutunun aradığı cevabı noktalı yere yazmalıyız.


10 x 9 kimde?

18	
9 x 3 kimde?	

100	
4 x 6 kimde?	

20	
9 x 8 kimde?	

56	
10 x 10 kimde?	

90	
9 x 7 kimde?	

40	
6 x 6 kimde?	

24	
6 x 7 kimde?	

72	
6 x 3 kimde?	

36	
8 x 7 kimde?	

27	
6 x 8 kimde?	

48	
5 x 8 kimde?	

63	
10 x 2 kimde?	

42 bende

... BENDE KİMDE? (Çarpma)


Her kutu, kendinde olan cevabı üstte aradığı cevabı altta gösteriyor. Oyun baştaki soru ile başlıyor. O sorunun cevabı kimde ise onun aradığı cevaptan devam ederek sona ulaşılır. Sona kalan kutunun aradığı cevabı noktalı yere yazmalıyız.

3 x 7 kimde?


28	
5 x 10 kimde?	

54	
10 x 2 kimde?	

81	
6 x 9 kimde?	

72	
9 x 9 kimde?	

48	
3 x 9 kimde?	

49	
8 x 6 kimde?	

50	
8 x 7 kimde?	

21	
4 x 7 kimde?	

20	
7 x 7 kimde?	

60	
8 x 9 kimde?	

30	
6 x 10 kimde?	

56	
10 x 3 kimde?	

27 bende