

## Sıra Sende...

Aşağıdaki alana bir resim veya kendi eğlenceli çalışmanı ekleyebilirsin.

Bu kitapçıkta 1. sınıf seviyesinde tekrar etkinlikleri ve çeşitli bulmacalar bulunmaktadır.

Yunus Külcü

Kontrol Edenin Adı .....  
İmzası .....

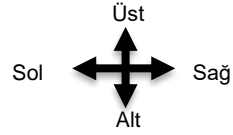
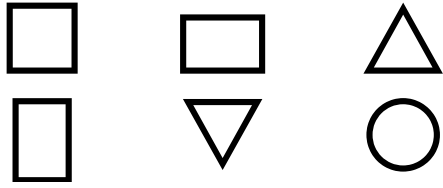


Adı Soyadı:   
Sınıfı :   
Okulu :

**Fasikül 2**

# UZAMSAL İLİŞKİLER

İfadeleri, tablodaki şekillerin konumlarına göre tamamlayın.



□ ile ○ arasında ..... vardır.



▽ şeklinin sağında ..... vardır.



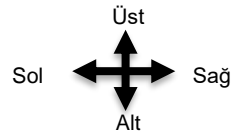
△ ile □ arasında ..... vardır.



# UZAMSAL İLİŞKİLER SAYILAR

İfadeleri, tablodaki sayıların konumlarına göre tamamlayın.

5	4	2	6
8	1	10	9
12	3	11	7



1 sayısının solunda ..... vardır. **8**

7 sayısının hemen üstünde ..... vardır. **9**

5 sayısının hemen sağında ..... vardır. **4**

4 sayısının hemen sağında ..... vardır. **2**

9 sayısının altında ..... vardır. **7**

1 sayısının hemen sağında ..... vardır. **10**

3 ile 7 arasında ..... vardır. **11**

# 4x4 SUDOKU

Sudoku 1

2	1	3	4
4	3	2	1
1	2	4	3
3	4	1	2

Sudoku 2

3	1	2	4
4	2	3	1
2	4	1	3
1	3	4	2

Sudoku 3

4	3	1	2
2	1	4	3
3	4	2	1
1	2	3	4

Sudoku 4

2	4	1	3
3	1	4	2
4	2	3	1
1	3	2	4

Sudoku 5

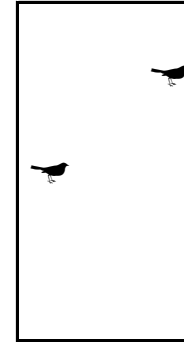
4	3	1	2
1	2	4	3
3	1	2	4
2	4	3	1

Sudoku 6


3	2	4	1
4	1	3	2
2	4	1	3
1	3	2	4

# NESNE SAYMA


Nesneleri uygun sayılarla eşleştirin.




2



13



3



6

## EŞİ OLMAYANI BUL

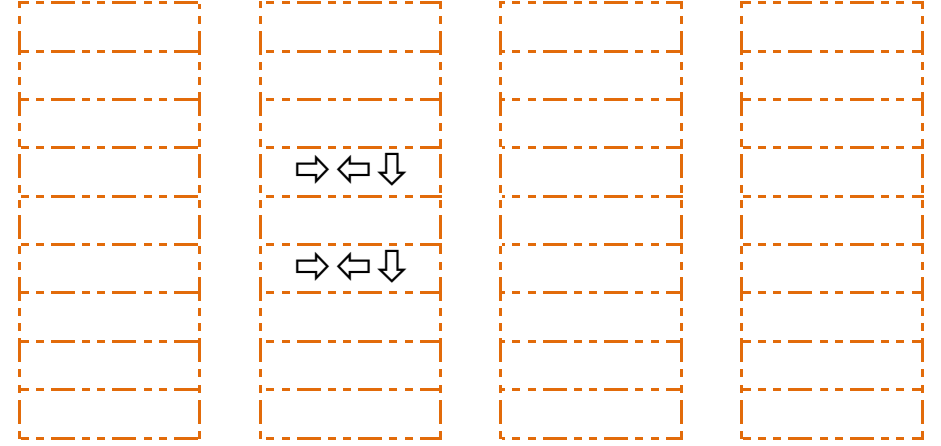
Aynı olan hayvanları eşleştirin ve eş olmayan hayvanı bulun.



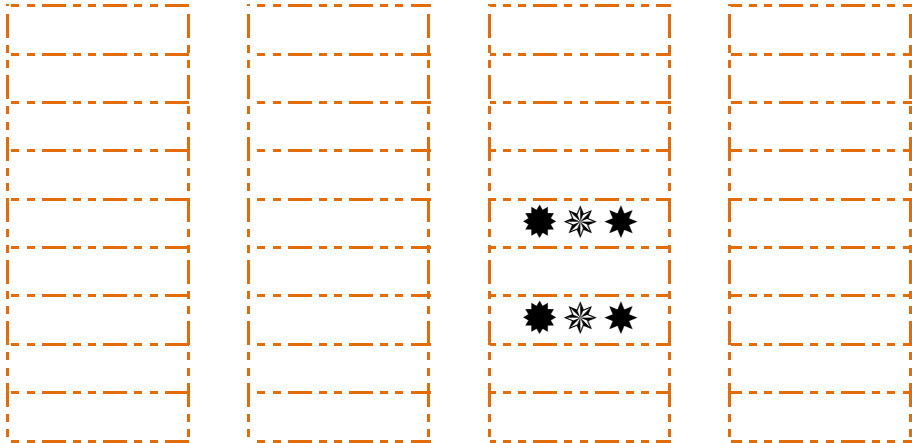
13

2

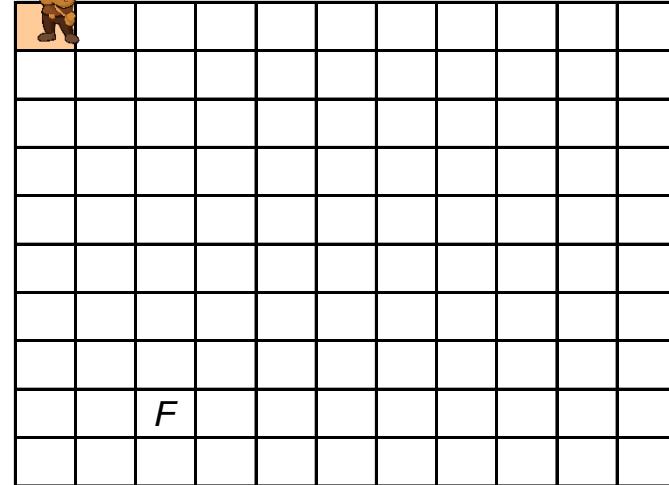
## DİKKAT ETKİNLİKLERİ 1. SET



## DİKKAT ETKİNLİKLERİ 1. SET



Yönergeyi takip ederek yolu oluşturun. Hazinesinin yerini bul ve işaretleyin.



YÖNERGE

- 2 ➤
- 4 ▼
- 2 ◀
- 4 ▼
- 2 ➤

Kod alanındaki komutları kullanarak gerçek hazineyi bulup işaretleyebilir misin?

➤=Sağa; ⬅=Sola; ▲=Yukarı; ▼=Aşağı



Başla	1	2	3	4	5
6	7	8	9	10	11
12	13	14	15	16	17
<del>18</del>	19	20	21	22	23
24	25	26	27	28	29
30	31	32	33	34	35

KOD ALANI

Başla; 5▼; 1➤; 2▲;  
1⬅; Bitir.



Başla	1	2	3	4	5
6	7	<del>8</del>	9	10	11
12	13	14	15	16	17
18	19	20	21	22	23
24	25	26	27	28	29
30	31	32	33	34	35

KOD ALANI

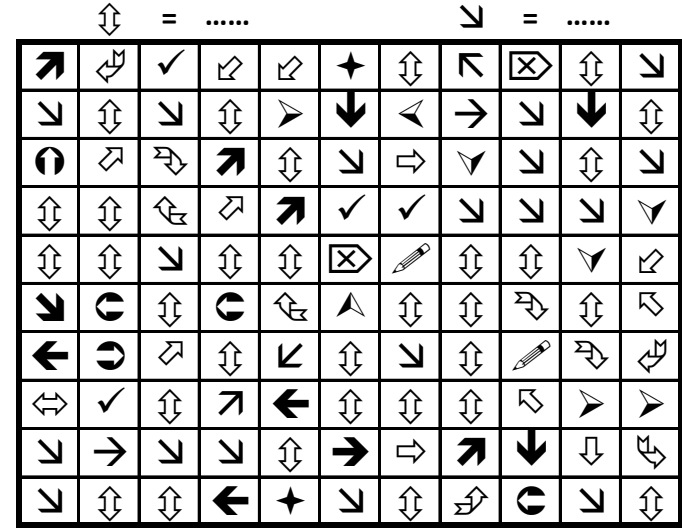
Başla; 5➤; 5▼; 3⬅;  
4▲; Bitir.

3

12

## ŞEKİLLERİ SAYALIM

Aşağıdaki şekillerin kaçar tane olduğunu noktalı yere yazın.



31

18

## EŞİ OLMAYANI BUL

Aynı olan hayvanları eşleştirin ve eş olmayan hayvanı bulun.



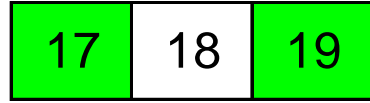



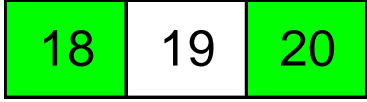
## GİZLİ SAYIYI BUL

Tabloya 1'den 25'e kadar bütün sayılar yazılmıştır. Bir sayı iki defa yazılmıştır. Bu sayıyı bulunuz.

18	22	24	23	5
		2		6
		20		4
	16	10		1
	15	25	12	
	13	21	9	
				14
7	3		8	17
				11

## ÖNCEKİ SONRAKİ

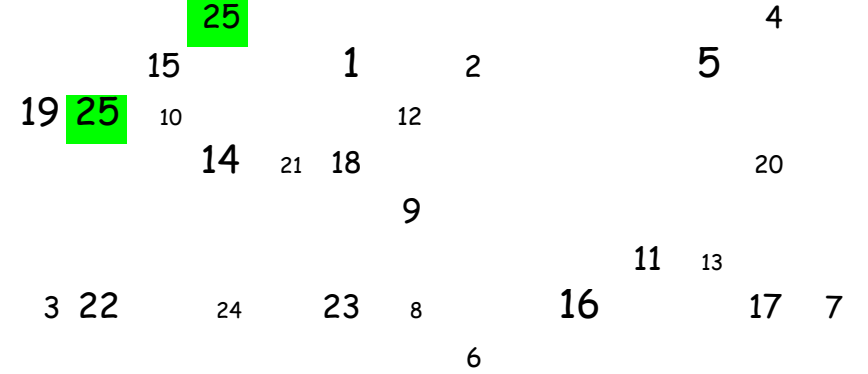
Aşağıda verilen sayılardan önceki ve sonraki sayıları yazın.



11 4



## GİZLİ SAYIYI BUL

Tabloya 1'den 25'e kadar bütün sayılar yazılmıştır. Bir sayı iki defa yazılmıştır. Bu sayı bulunuz.



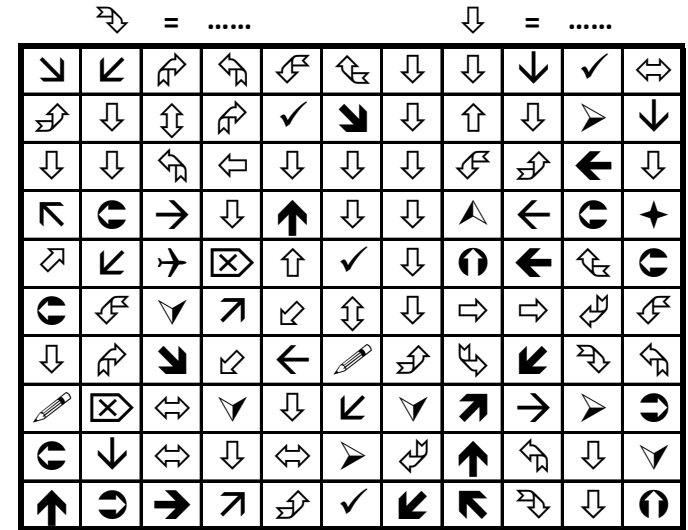
## EŞİ OLMAYANI BUL

Aynı olan çiçekleri eşleştirin ve eş olmayan çiçeği bulun.



## ŞEKİLLERİ SAYALIM

Aşağıdaki şekillerin kaçar tane olduğunu noktalı yere yazın.



2

21

# ŞEKİLLİ SUDOKULAR (Seviye 2)


Çember, üçgen, kare ve dikdörtgen şekillerini; her satır, sütun ve koyu renkli alanlara, benzerleri olmayacak şekilde yerleştiriniz.

○	□	▭	△
△	▭	□	○
□	△	○	▭
▭	○	△	□


5

# NESNE SAYMA


Nesneleri uygun sayılarla eşleştirin.




14



11



15



4

10

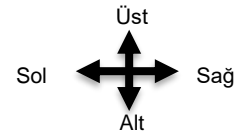
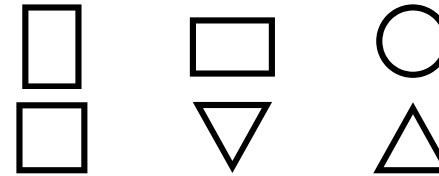
# EŞİ OLMAYANI BUL

Aşağıdaki tabloda eş olmayan şekli bulun ve işaretleyin.




# UZAMSAL İLİŞKİLER

İfadeleri, tablodaki şekillerin konumlarına göre tamamlayın.



▽ şeklinin solunda ..... vardır.

□

△ şeklinin üstünde ..... vardır.

○

□ şeklinin hemen sağında ..... vardır.

□

Uygun kutuları boyayarak yolu tamamlayın. (beşer ileri ritmik sayarak)

9



5	85	90	95	80	25	55	40	10	75
10	100	55	65	90	85	50	75	25	25
15	50	50	5	45	5	50	80	85	90
20	25	35	45	50	55	90	75	75	95
30	30	35	40	20	60	65	70	70	100



Kutuları boyayarak yolu tamamla. (onar ileri ritmik sayarak.)



10	30	80	90	20	10
20	30	40	40	50	70
90	50	50	60	70	50
100	50	70	60	80	80
70	40	60	70	90	100



6

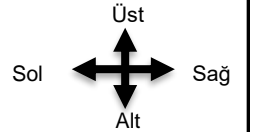
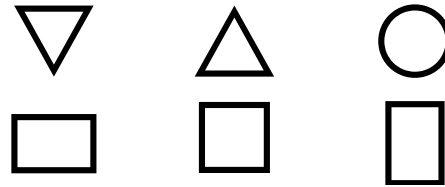
## EŞİ OLMAYANI BUL

Aşağıdaki tabloda eşî olmayan şekli bulun ve işaretleyin.




## UZAMSAL İLİŞKİLER

İfadeleri, tablodaki şekillerin konumlarına göre tamamlayın.



○ şeklinin altında ..... vardır.



□ şeklinin hemen solunda ..... vardır.

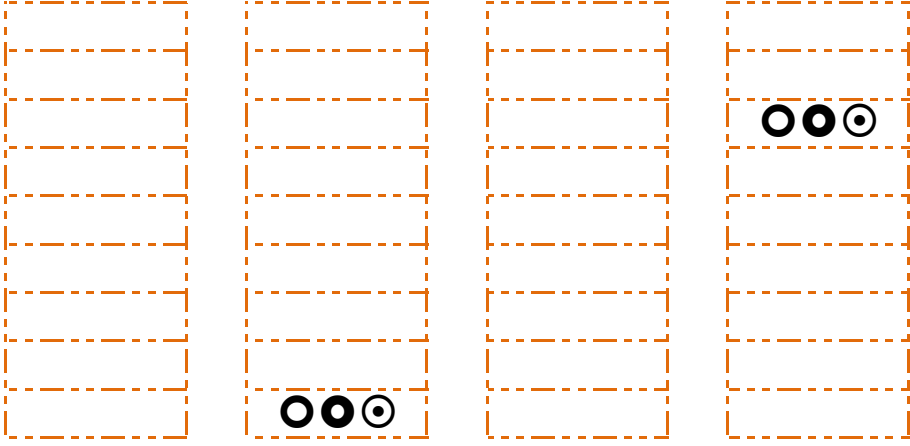


□ şeklinin üstünde ..... vardır.



# DİKKAT ETKİNLİKLERİ 1. SET

7




8

Uygun kutuları boyayarak yolu tamamlayın. (birer ileri ritmik sayarak)



1	10	8	3	16	19	19	19	1	15
2	10	10	11	12	13	14	16	13	2
3	5	9	8	9	17	15	16	17	10
4	18	8	3	14	2	2	13	18	19
5	6	7	10	14	12	19	18	6	20



# ŞEKİLLİ SUDOKULAR (Seviye 2)

Çember, üçgen, kare ve dikdörtgen şekillerini; her satır, sütun ve koyu renkli alanlara, benzerleri olmayacak şekilde yerleştiriniz.

○	□	▭	△
△	▭	□	○
□	○	△	▭
▭	△	○	□

Uygun kutuları boyayarak yolu tamamlayın. (birer geri ritmik sayarak)



20	20	18	14	6	10	10	9	11	5
19	2	11	10	9	8	7	2	19	9
18	8	12	2	3	11	6	5	4	3
17	18	13	2	13	1	1	12	3	2
16	15	14	10	14	12	19	18	7	1

