

Sıra Sende...

Aşağıdaki alana bir resim veya kendi eğlenceli çalışmanı ekleyebilirsin.

Bu kitapçıkta 1. sınıf seviyesinde tekrar etkinlikleri ve çeşitli bulmacalar bulunmaktadır.

Yunus Külcü

Kontrol Edenin Adı
İmzası

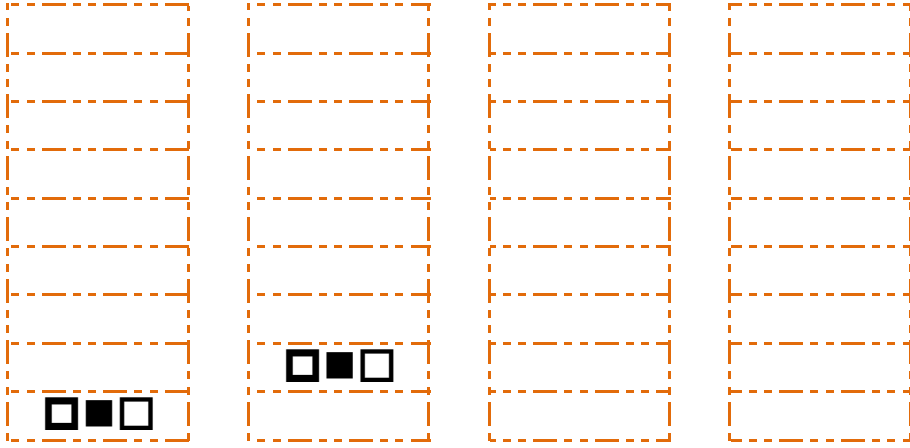


Adı Soyadı:
Sınıfı :
Okulu :

Fasikül 3

DİKKAT ETKİNLİKLERİ 1. SET



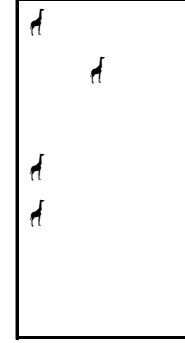

1



NESNE SAYMA

14

Nesneleri uygun sayılarla eşleştirin.



6

4

7

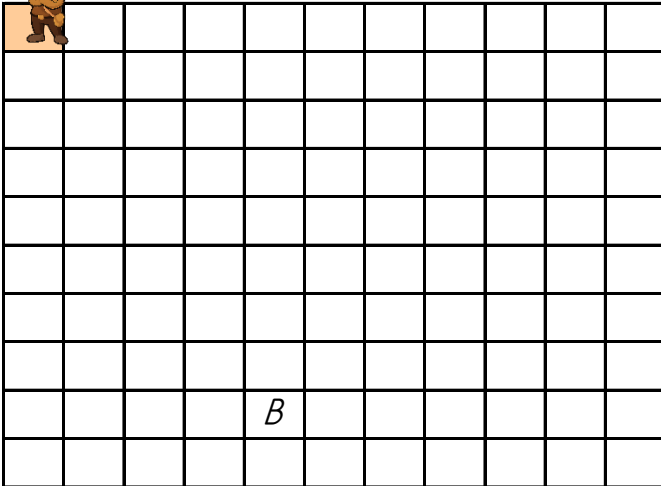
10

Yönergeyi takip ederek yolu oluştur. Hazinesin yerini bul ve işaretle.



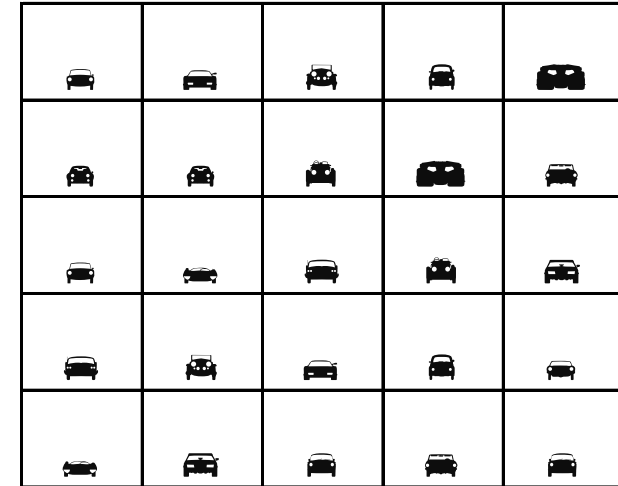
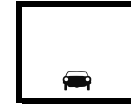
YÖNERGE

- 2 ▼
- 1 ►
- 3 ▼
- 1 ◀
- 2 ▼
- 2 ►
- 1 ▼
- 2 ►



EŞİ OLMAYANI BUL

Aşağıdaki tabloda eşini olmayan şekli bulun ve işaretleyin.



SAYI BUL

Tabloların üzerinde yazan sayıları tabloların içinden bulun ve işaretleyin.



13

4			
4	4	9	5
4	4	4	4
8	4	2	4
4	5	4	9

1			
6	3	6	1
3	4	1	1
9	1	1	4
1	1	1	1

5			
5	2	5	8
9	5	5	0
5	9	5	5
0	5	6	7

2			
2	6	7	1
6	7	0	9
6	2	2	8
2	3	3	2

6			
6	6	8	0
5	4	6	6
6	9	0	6
6	6	7	1

3			
7	5	3	0
6	3	2	1
8	5	3	3
9	8	6	8

2

Kod alanındaki komutları kullanarak gerçek hazineyi bulup işaretleyebilir misin?

➤=Sağa; ⬅=Sola; ▲=Yukarı; ▼=Aşağı



Başla	1	2	3	4	5
6	7	8	9	10	11
12	13	14	15	16	17
18	19	20	21	22	23
24	25	26	27	28	29
30	31	32	33	34	35

KOD ALANI

Başla; 5▼; 1➤; 4▲;
Bitir.



Başla	1	2	3	4	5
6	7	8	9	10	11
12	13	14	15	16	17
18	19	20	21	22	23
24	25	26	27	28	29
30	31	32	33	34	35

KOD ALANI

Başla; 3➤; 3▼; 2➤;
Bitir.

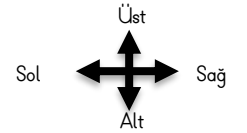

ŞEKİLLİ SUDOKULAR (Seviye 2)

Çember, üçgen, kare ve dikdörtgen şekillerini; her satır, sütun ve koyu renkli alanlara, benzerleri olmayacak şekilde yerleştiriniz.

□	▭	△	○
○	△	▭	□
▭	○	□	△
△	□	○	▭

UZAMSAL İLİŞKİLER

İfadeleri, tablodaki şekillerin konumlarına göre tamamlayın.



□ şeklinin hemen sağında vardır.

○

▭ ile ▭ arasında vardır.

△

▽ şeklinin altında vardır.

□

EŞİ OLMAYANI BUL

Aşağıdaki her bir tabloda eş olmayan şekli bulun ve işaretleyin.

← ↻ ↓	■ ⊗ ⊗	↕ ✦ ↶
← ↑ ←	■ ⊗ ⊗	↓ ↕ ↓
← ↓ ↻	✧ ⊗ ⊗	↻ ↻ ✦

↑

□ □ □	📖 ✦ ⊗	□ ☆ □
□ ✦ □	⊗ □ 📖	⊗ ⊗ ↘
□ ✦ ⊗	✦ □ ✧	⊗ ↘ ⊗

✦

☺ ⊙ ⌚	□ 📖 ⊗	✓ ✓ ✎
☺ ⌚ ☀	⊗ □ 📖	↑ ↘ ↘
⊙ ⌚ ☀	□ □ 📖	✎ ✦ ✦

⌚

11 4

ŞEKİLLERİ SAYALIM

Aşağıdaki şekillerin kaçar tane olduğunu noktalı yere yazın.

⊗ = ⊗ =

⊗	⊗	⊗	⊗	□	⊗	✦	📖	■	■	✧
⊗	⊗	📖	⊗	□	□	□	□	⊗	📖	⊗
⊗	⊗	✦	✦	⊗	□	□	⊗	◆	📖	📖
⊗	⊗	⊗	⊗	□	⊗	■	⊗	□	📖	⊗
⊗	⊗	📖	□	⊗	□	⊗	□	⊗	□	⊗
⊗	⊗	⊗	⊗	◆	📖	⊗	□	■	⊗	⊗
⊗	📖	⊗	📖	⊗	⊗	⊗	⊗	📖	■	□
□	□	■	□	⊗	📖	⊗	⊗	⊗	⊗	📖
📖	⊗	⊗	◆	⊗	⊗	⊗	📖	■	■	⊗
□	⊗	⊗	□	⊗	⊗	⊗	■	◆	■	⊗

13

25

ŞEKİLLİ SUDOKULAR (Seviye 2)

Çember, üçgen, kare ve dikdörtgen şekillerini; her satır, sütun ve koyu renkli alanlara, benzerleri olmayacak şekilde yerleştiriniz.

△	○	□	▭
▭	□	△	○
□	▭	○	△
○	△	▭	□

SAYI BUL

Tabloların üzerinde yazan sayıları tabloların içinden bulun ve işaretleyin.



8			
3	7	4	5
0	7	6	9
9	3	7	8
8	2	3	3

7			
9	1	1	7
1	2	7	9
7	8	6	7
7	2	4	7

5			
5	3	5	9
9	2	4	8
5	5	1	8
6	1	0	5

9			
9	9	4	9
5	1	5	9
9	9	6	9
8	6	9	2

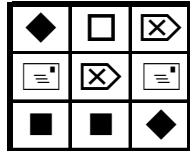

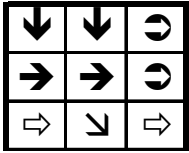
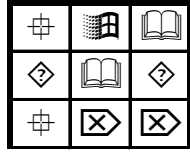
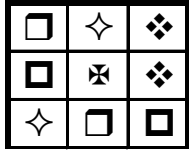
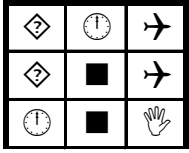

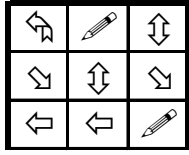
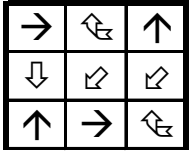
6			
5	2	6	8
9	6	3	8
9	0	6	9
6	6	8	3

4			
3	0	4	2
3	2	7	0
4	4	2	2
4	8	4	7

EŞİ OLMAYANI BUL

9


Aşağıdaki her bir tabloda eş olmayan şekli bulun ve işaretleyin.



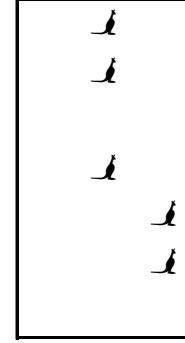
NESNE SAYMA

6

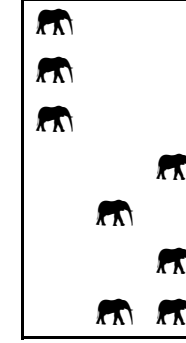
Nesneleri uygun sayılarla eşleştirin.




7



5



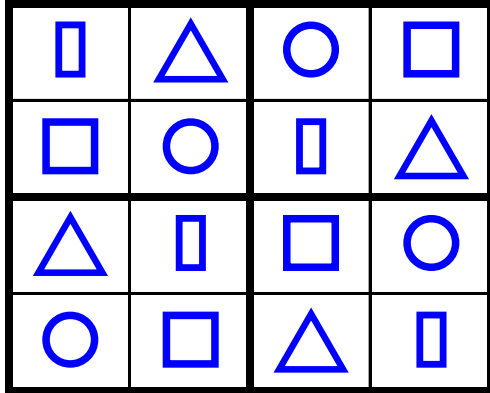
8



11

ŞEKİLLİ SUDOKULAR (Seviye 2)

Çember, üçgen, kare ve dikdörtgen şekillerini; her satır, sütun ve koyu renkli alanlara, benzerleri olmayacak şekilde yerleştiriniz.



Uygun kutuları boyayarak yolu tamamlayın. (biri ileri ritmik sayarak)



1	1	5	13	18	14	8	19	7	7
2	9	16	11	12	13	14	9	6	13
3	4	8	18	11	16	15	18	13	1
17	5	17	9	10	11	16	17	18	15
7	6	7	8	16	18	7	10	19	20



