

Sıra Sende...

Aşağıdaki alana bir resim veya kendi eğlenceli çalışmanı ekleyebilirsin.



Cevap Anahtarı

Bu kitapçıkta 1. sınıf seviyesinde tekrar etkinlikleri ve çeşitli bulmacalar bulunmaktadır.

Yunus Külcü

Kontrol Edenin Adı
İmzası

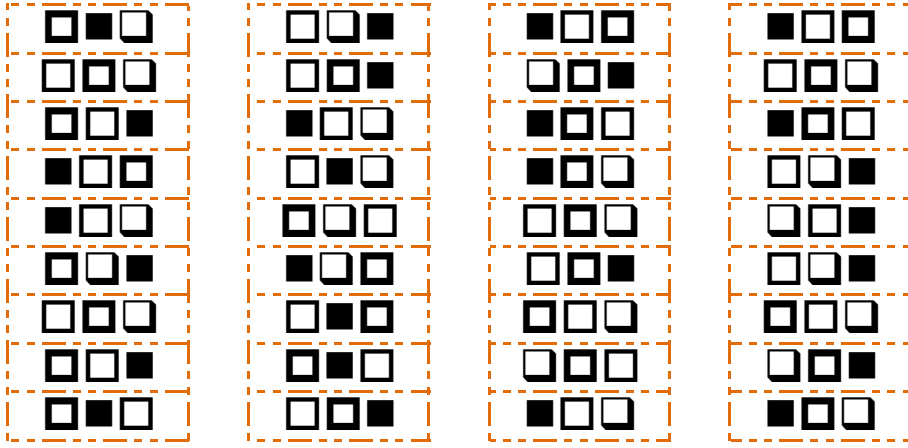


Adı Soyadı:
Sınıfı :
Okulu :

Fasikül 3

DİKKAT ETKİNLİKLERİ AYNISINI BUL

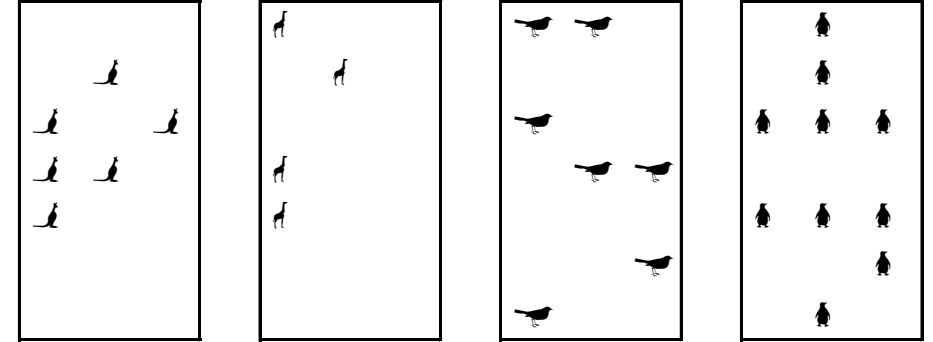
Şekillerin yandaki gibi sıralandığı 2 grubu işaretleyiniz.



1

NESNE SAYMA

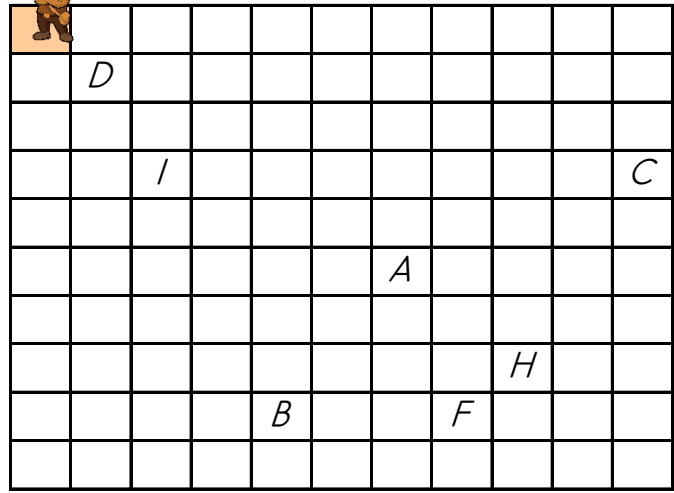
Nesneleri uygun sayılarla eşleştirin.



4 5 7 10 6

14

Yönergeyi takip ederek yolu oluştur. Hazinesin yerini bul ve işaretle.




YÖNERGE

- 2 ▼
- 1 ►
- 3 ▼
- 1 ◀
- 2 ▼
- 2 ►
- 1 ▼
- 2 ►

EŞİ OLMAYANI BUL

Aşağıdaki tabloda eşini olmayan şekli bulun ve işaretleyin.



SAYI BUL



Tabloların üzerinde yazan sayıları tabloların içinden bulun ve işaretleyin.

4				1				5			
4	4	9	5	6	3	6	1	5	2	5	8
4	4	4	4	3	4	1	1	9	5	5	0
8	4	2	4	9	1	1	4	5	9	5	5
4	5	4	9	1	1	1	1	0	5	6	7
2				6				3			
2	6	7	1	6	6	8	0	7	5	3	0
6	7	0	9	5	4	6	6	6	3	2	1
6	2	2	8	6	9	0	6	8	5	3	3
2	3	3	2	6	6	7	1	9	8	6	8

13

2 Kod alanındaki komutları kullanarak gerçek hazineyi bulup işaretleyebilir misin?

➤=Sağa; ➤=Sola; ▲=Yukarı; ▼=Aşağı



Başla	1	2	3	4	5
6	7	8	9	10	11
12	13	14	15	16	17
18	19	20	21	22	23
24	25	26	27	28	29
30	31	32	33	34	35

KOD ALANI

Başla: 5▼; 1➤; 4▲;
Bitir.



Başla	1	2	3	4	5
6	7	8	9	10	11
12	13	14	15	16	17
18	19	20	21	22	23
24	25	26	27	28	29
30	31	32	33	34	35

KOD ALANI

Başla: 3➤; 3▼; 2➤;
Bitir.

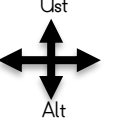
ŞEKİLLİ SUDOKULAR (Seviye 2)

Çember, üçgen, kare ve dikdörtgen şekillerini; her satır, sütun ve koyu renkli alanlara, benzerleri olmayacak şekilde yerleştiriniz.

□			○
○	△		□
□	○		
△	□	○	

UZAMSAL İLİŞKİLER

İfadeleri, tablodaki şekillerin konumlarına göre tamamlayın.

□	○	▽	Sol  Sağ
□	△	□	

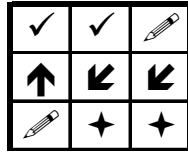
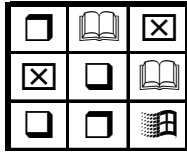

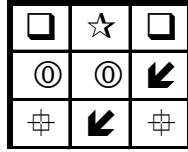

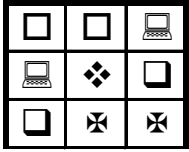
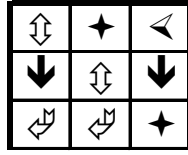
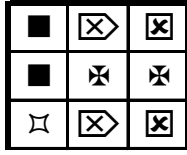
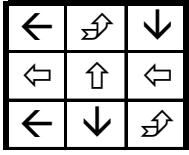
□ şeklinin hemen sağında vardır.

□ ile □ arasında vardır.

▽ şeklinin altında vardır.

EŞİ OLMAYANI BUL


Aşağıdaki her bir tabloda eş olmayan şekli bulun ve işaretleyin.



11 4

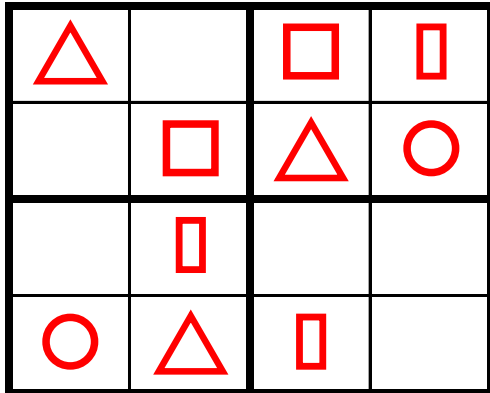
ŞEKİLLERİ SAYALIM

Aşağıdaki şekillerin kaçar tane olduğunu noktalı yere yazın.



ŞEKİLLİ SUDOKULAR (Seviye 2)

Çember, üçgen, kare ve dikdörtgen şekillerini; her satır, sütun ve koyu renkli alanlara, benzerleri olmayacak şekilde yerleştiriniz.



SAYI BUL

Tabloların üzerinde yazan sayıları tabloların içinden bulun ve işaretleyin.



8				7				5			
3	7	4	5	9	1	1	7	5	3	5	9
0	7	6	9	1	2	7	9	9	2	4	8
9	3	7	8	7	8	6	7	5	5	1	8
8	2	3	3	7	2	4	7	6	1	0	5
9				6				4			
9	9	4	9	5	2	6	8	3	0	4	2
5	1	5	9	9	6	3	8	3	2	7	0
9	9	6	9	9	0	6	9	4	4	2	2
8	6	9	2	6	6	8	3	4	8	4	7

DİKKAT ETKİNLİKLERİ - AYNISINI BUL

5 10

Şekillerin yandaki gibi sıralandığı 4 grubu işaretleyiniz. ↑ ↓ ⇐ ⇒

⇒⇐↓↑	↓⇐↑⇒	⇐⇒↑↓	↑↓⇐⇒
↓↑⇐⇒	⇒↓⇐↑	⇐⇒↑↓	⇒↑↓⇐
↓↑⇐⇒	⇒⇐↑↓	↓⇐↑⇒	↓⇐↑⇒
⇒↑↓⇐	⇐↑↓⇒	⇒↓⇐↑	↑↓⇐⇒
⇒↑↓⇐	↓↑⇐⇒	⇒↑⇐↓	⇐↓↑⇒
↓↑⇐⇒	↓⇐↑⇒	↓⇒↑⇐	↓⇐↑⇒
⇒↑↓⇐	↑⇐↓⇒	↓⇐⇒↑	⇐↑↓⇒
⇐⇒↓↑	↑⇒↓⇐	↓⇐⇒↑	↓⇐↑⇒
⇒⇐↓↑	↓⇐↑⇒	⇐⇒↑↓	↑↓⇐⇒
⇒↓↑⇐	⇒↑↓⇐	⇒⇐↑↓	↑⇐⇒↓
↑⇒⇐↓	⇐⇒↓↑	⇒↑↓⇐	↓⇐⇒↑
⇒↑↓⇐	⇒↑↓⇐	⇐↓⇒↑	↑⇒↓⇐
⇐⇒↑↓	↓⇒↑⇐	⇐↑⇒↓	↑↓⇒⇐
⇐↓↑⇒	↑⇒↓⇐	⇒↓↑⇐	↓⇒↑⇐
↓↑⇐⇒	⇐↓⇒↑	↓⇒↑⇐	⇐↓↑⇒
⇒↑⇐↓	↑↓⇒⇐	⇒⇐↓↑	⇐⇒↑↓
↓↑⇐⇒	↓⇒↑⇐	⇐↑⇒↓	⇒↓⇐⇒
↑⇐⇒↓	↑⇒⇐↓	⇐⇒↓↑	⇒↑↓⇐
↓⇐⇒↑	⇒↑↓⇐	⇒↑↓⇐	⇐↓⇒↑
↑⇒↓⇐	⇐⇒↑↓	↓⇒↑⇐	⇐↑⇒↓
↑↓⇒⇐	⇐↓↑⇒	↑⇒↓⇐	⇒↓↑⇐
↓⇒↑⇐	↓↑⇐⇒	⇐↓⇒↑	↓⇒↑⇐
⇐↓↑⇒	⇒↑⇐↓	↑↓⇒⇐	⇒⇐↓↑
⇐⇒↑↓	⇒⇐↑↓	↓⇒↑⇐	⇐↑⇒↓

EŞİ OLMAYANI BUL

Aynı olan yiyecekleri eşleştirin ve eş olmayan yiyeceği bulun.



Kod alanındaki komutları kullanarak gerçek hazineyi bulup işaretleyebilir misin?

➤=Sağa; ⇐=Sola; ▲=Yukarı; ▼=Aşağı

Başla	1	2	3	4	5
6	7	8	9	10	11
12	13	14	15	16	17
18	19	20	21	22	23
24	25	26	27	28	29
30	31	32	33	34	35

KOD ALANI

Başla; 3➤; 4▼; 1➤;
1▼; Bitir.



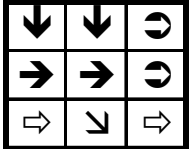

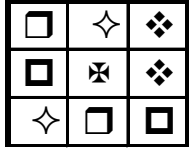
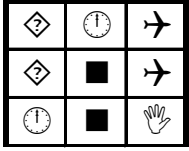

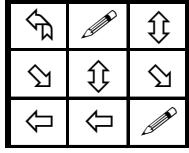
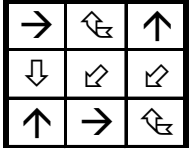
Başla	1	2	3	4	5
6	7	8	9	10	11
12	13	14	15	16	17
18	19	20	21	22	23
24	25	26	27	28	29
30	31	32	33	34	35

KOD ALANI

Başla; 3➤; 3▼; 2➤;
Bitir.

EŞİ OLMAYANI BUL


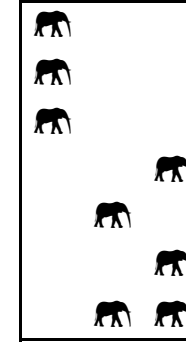
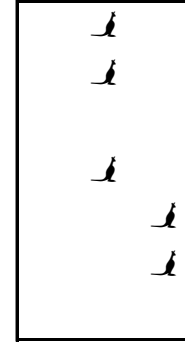

Aşağıdaki her bir tabloda eş olmayan şekli bulun ve işaretleyin.



9

NESNE SAYMA

Nesneleri uygun sayılarla eşleştirin.



11

7

5

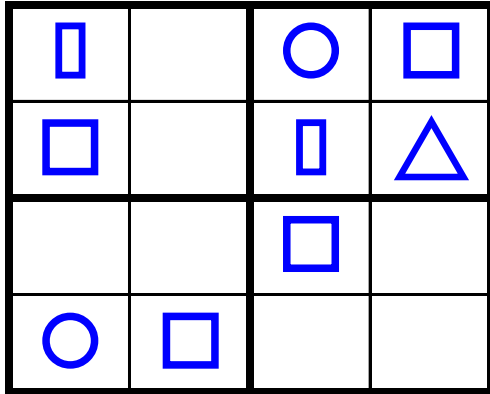
8

3

6

ŞEKİLLİ SUDOKULAR (Seviye 2)

Çember, üçgen, kare ve dikdörtgen şekillerini; her satır, sütun ve koyu renkli alanlara, benzerleri olmayacak şekilde yerleştiriniz.



Uygun kutuları boyayarak yolu tamamlayın. (biri ileri ritmik sayarak)



1	1	5	13	18	14	8	19	7	7
2	9	16	11	12	13	14	9	6	13
3	4	8	18	11	16	15	18	13	1
17	5	17	9	10	11	16	17	18	15
7	6	7	8	16	18	7	10	19	20



