


## Sıra Sende...

Aşağıdaki alana bir resim veya kendi eğlenceli çalışmanı ekleyebilirsin.



Cevap Anahtarı

Bu kitapçıkta 1. sınıf seviyesinde tekrar etkinlikleri ve çeşitli bulmacalar bulunmaktadır.

Yunus Külcü

Kontrol Edenin Adı .....

İmzası .....



Adı Soyadı:

Sınıfı :

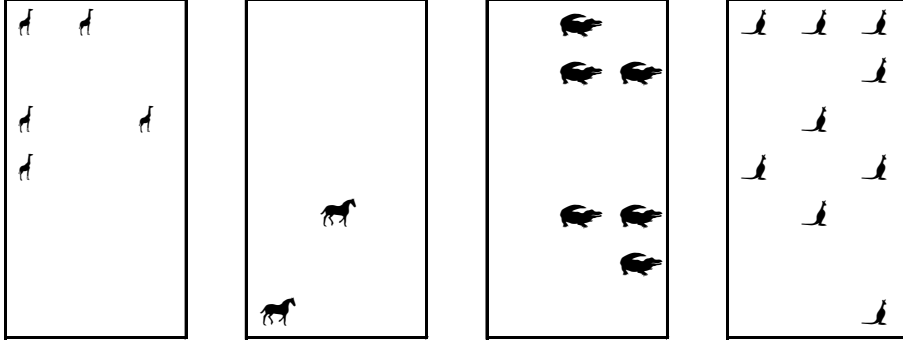
Okulu :

**Fasikül 5**



## NESNE SAYMA

Nesneleri uygun sayılarla eşleştirin.



2 9 6 4 5

13 2

## TEKRAR EDEN SAYILARI BUL (KOLAY)

Her tabloda sadece bir sayıdan iki tane vardır. O sayıları bulup işaretleyin.



6	11	1
5	2	9
3	8	7
2	12	0

1	1	5
10	2	8
12	4	9
7	6	11

8	3	11
4	9	10
6	12	11
5	1	2

11	1	12
4	3	9
7	5	2
8	4	0

11	6	2
12	12	7
9	10	3
5	1	4

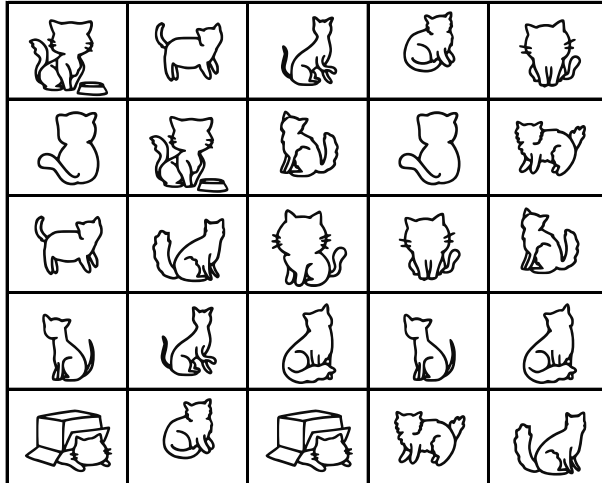
5	6	3
10	1	5
12	8	4
9	7	2

10	7	9
12	6	11
3	10	5
4	8	0

1	12	10
11	4	7
2	6	3
9	7	0

## EŞİ OLMAYANI BUL

Aşağıdaki tabloda eşi olmayan şekili bulun ve işaretleyin.



## SAYI BUL

Tabloların üzerinde yazan sayıları tabloların içinden bulun ve işaretleyin.



2

2	2	2	2
9	9	8	7
1	0	9	3
7	9	8	0

1

8	5	9	2
9	1	5	1
7	7	7	1
3	0	9	0

9

0	5	4	1
9	7	9	9
7	2	9	7
9	0	9	9

3

5	5	6	3
3	0	3	3
3	3	3	1
3	3	3	9

4

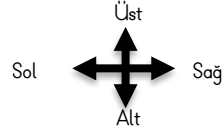
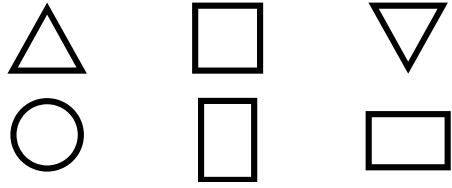
4	4	2	7
1	4	4	7
4	2	4	4
5	0	4	5

0

1	9	0	2
4	4	6	0
9	5	5	0
2	3	7	0

## UZAMSAL İLİŞKİLER

İfadeleri, tablodaki şekillerin konumlarına göre tamamlayın.




□ şeklinin solunda ..... vardır.

△ şeklinin hemen sağında ..... vardır.

□ şeklinin sağında ..... vardır.

## EŞİ OLMAYANI BUL

Aşağıdaki tabloda eş olmayan şekli bulun ve işaretleyin.



## ŞEKİLLİ SUDOKULAR (Seviye 3)

Her satır ve sütunu ←, ↑, →, ↓ kullanarak boş kutuları doldurun.

			→
→	↑		←
↑	→		
↓			

Kutuları boyayarak yolu tamamla. (onar ileri ritmik sayarak.)



10	20	90	100	70	30
40	30	70	80	10	100
70	40	30	30	80	100
20	50	50	70	20	60
10	60	70	80	90	100



## SAYI YAZALIM

1  
2  
4

4 4 4 4

4 4

4

11 4

## BAĞLANTILI SAYILAR

Birbiriyle bağlantılı tabloları inceleyin ve şifre sayısını bulun.

8	7	6	1	4	3	5	2
◆	□	□	□	■	□	◆	□

□	■	□	□	◆	□	□	◆
↶	↷	↸	↹	↺	↻	↼	↽

↶	↷	↸	↹	↺	↻	↼	↽

## SAYI YAZALIM

1  
2  
5

5 5 5 5

5 5

5

## GİZLİ SAYIYI BUL

Tabloya 1'den 25'e kadar bütün sayılar yazılmıştır. Bir sayı iki defa yazılmıştır. Bu sayıyı bulunuz.

		12		3				20	16
	15		7		24		8		
			19	20					5
13			17	11		14		2	
			4				18		1
21	22								
			6					10	
					25		23		9



Uygun kutuları boyayarak yolu tamamlayın. (bire ger ritmik sayarak)

9



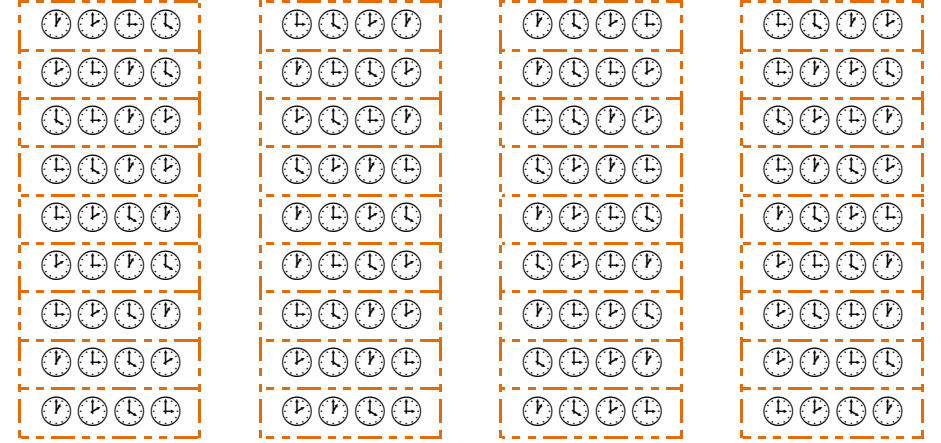
20	19	20	12	14	1	5	20	5	3
3	18	8	2	19	2	14	4	19	5
16	17	14	3	8	7	6	5	17	5
15	1	16	10	9	18	13	4	3	10
14	13	12	11	12	14	4	19	2	1



6

## DİKKAT ETKİNLİKLERİ AYNISINI BUL

Şekillerin yandaki gibi sıralandığı 3 grubu işaretleyiniz.



## ŞEKİLLİ SUDOKULAR (Seviye 3)

Her satır ve sütunu 1, 2, 3, 4 kullanarak boş kutuları doldurun.

4			2
2	1		3
		3	
	4		1

## ŞEKİLLİ SUDOKULAR (Seviye 2)

Her satır ve sütunu ○, □, △, ◻ kullanarak boş kutuları doldurun.

	○		△
△			◻
○	◻	△	
◻	△		○

# ŞEKİLLİ SUDOKULAR (Seviye 2)

Her satır ve sütunu ←, ↑, →, ↓ kullanarak boş kutuları doldurun.

↓		←	↑
↑	←	→	
←	↓	↑	

Uygun kutuları boyayarak yolu tamamlayın. (bire ileri ritmik sayarak)

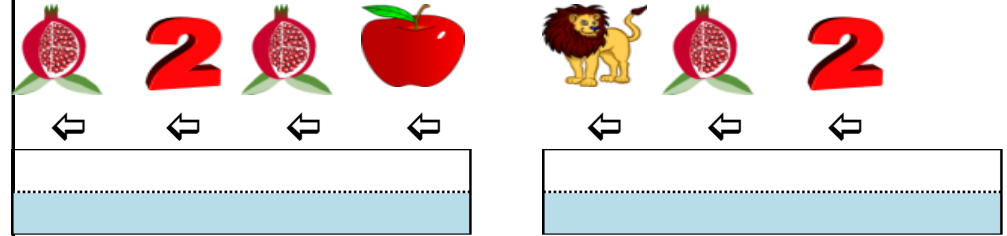
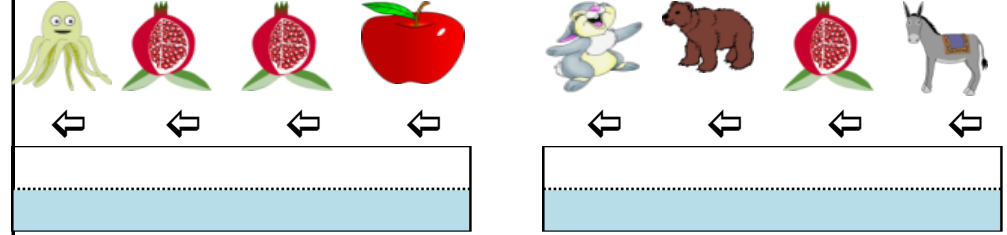


1	19	5	11	14	15	18	7	15	6
2	3	4	13	5	1	13	15	16	17
6	20	5	2	8	18	13	14	17	18
11	10	6	7	9	11	12	7	3	19
16	9	3	8	9	10	12	17	2	20



# RESİMLERDEN KELİMELERE (BULMACA)

Verilen nesnenin altındaki ok işareti sol tarafı gösteriyorsa nesnenin ilk harfini, sağ tarafı gösteriyorsa nesnenin son harfini yazarak şifreli kelimeleri oluşturun.



# EŞİ OLMAYANI BUL

Aynı olan hayvanları eşleştirin ve eşi olmayan hayvanı bulun.

