



EŞİ OLMAYANI BUL

Aşağıdaki tabloda eşî olmayan şekli bulun ve işaretleyin.




EŞİ OLMAYANI BUL

Aşağıdaki tabloda eşî olmayan şekli bulun ve işaretleyin.



EŐİ OLMAYANI BUL

AŐağıdaki tabloda eŐi olmayan Őekli bulun ve iŐaretleyin.



EŐİ OLMAYANI BUL

AŐağıdaki tabloda eŐi olmayan Őekli bulun ve iŐaretleyin.

