



EŞİ OLMAYANI BUL

Aşağıdaki tabloda eş olmayan şekli bulun ve işaretleyin.




EŞİ OLMAYANI BUL

Aşağıdaki tabloda eş olmayan şekli bulun ve işaretleyin.



EŐİ OLMAYANI BUL

AŐađıdaki tabloda eŐi olmayan Őekli bulun ve iŐaretleyin.



EŐİ OLMAYANI BUL

AŐađıdaki tabloda eŐi olmayan Őekli bulun ve iŐaretleyin.

