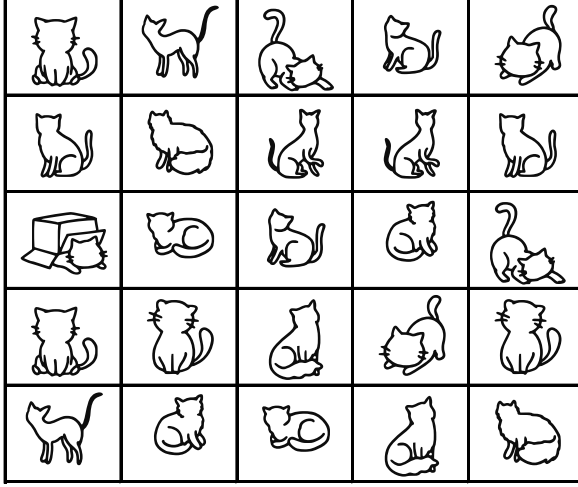



## EŞİ OLMAYANI BUL

Aşağıdaki tabloda eş olmayan şekli bulun ve işaretleyin.



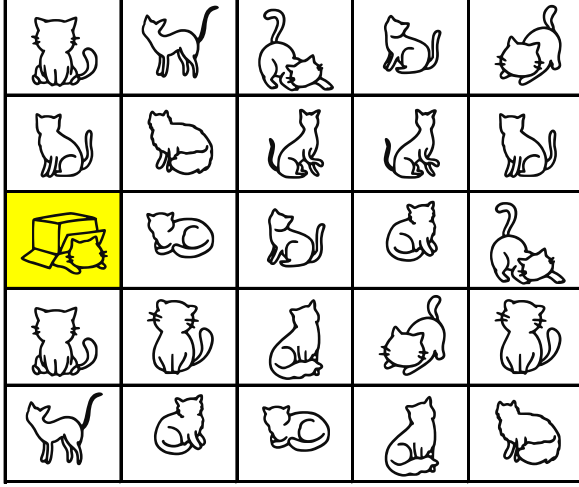
## EŞİ OLMAYANI BUL

Aşağıdaki tabloda eş olmayan şekli bulun ve işaretleyin.



## EŞİ OLMAYANI BUL

Aşağıdaki tabloda eşi olmayan şekli bulun ve işaretleyin.



## EŞİ OLMAYANI BUL

Aşağıdaki tabloda eşi olmayan şekli bulun ve işaretleyin.

