


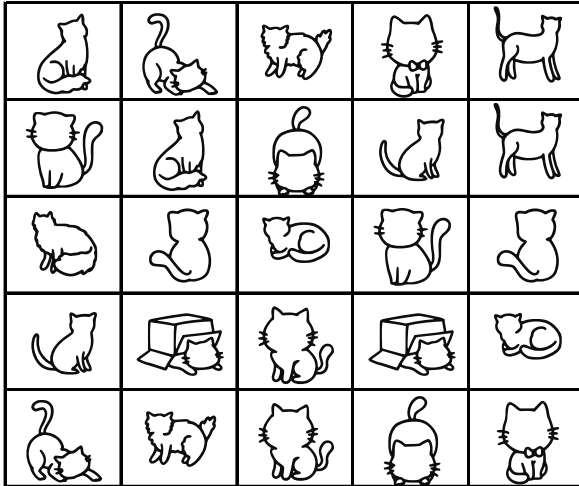
## EŞİ OLMAYANI BUL

Aşağıdaki tabloda eşli olmayan şekli bulun ve işaretleyin.



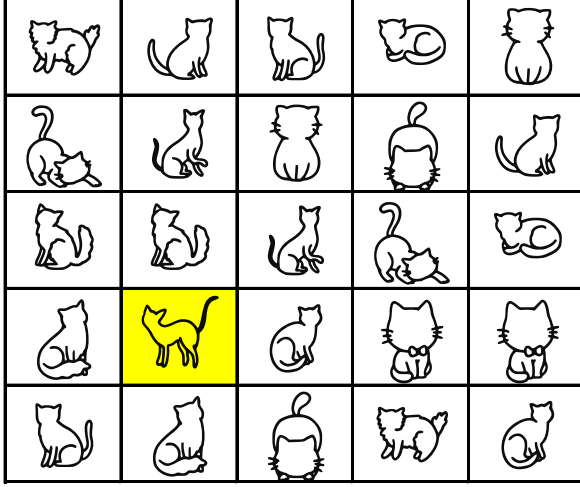
## EŞİ OLMAYANI BUL

Aşağıdaki tabloda eşli olmayan şekli bulun ve işaretleyin.



## EŞİ OLMAYANI BUL

Aşağıdaki tabloda eşi olmayan şekli bulun ve işaretleyin.



## EŞİ OLMAYANI BUL

Aşağıdaki tabloda eşi olmayan şekli bulun ve işaretleyin.

