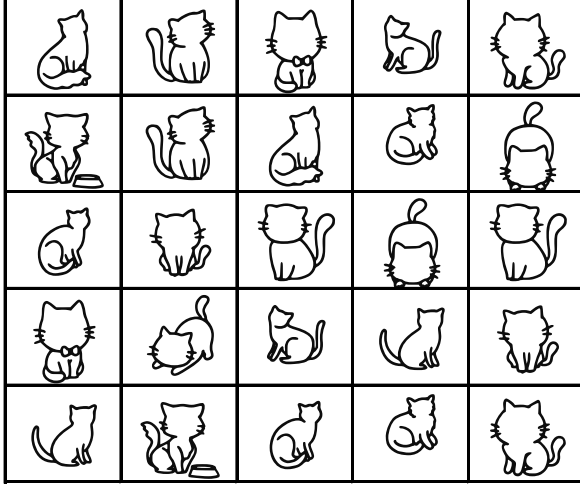



EŞİ OLMAYANI BUL

Aşağıdaki tabloda eş olmayan şekli bulun ve işaretleyin.



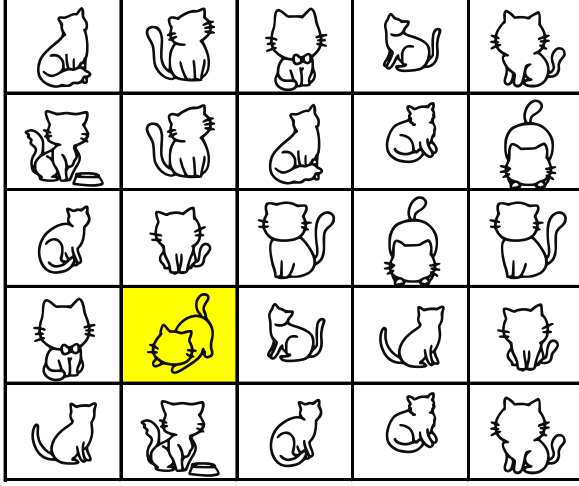
EŞİ OLMAYANI BUL

Aşağıdaki tabloda eş olmayan şekli bulun ve işaretleyin.



EŞİ OLMAYANI BUL

Aşağıdaki tabloda eşi olmayan şekli bulun ve işaretleyin.



EŞİ OLMAYANI BUL

Aşağıdaki tabloda eşi olmayan şekli bulun ve işaretleyin.

