

... BENDE KİMDE? (Çarpma)

Her kutu, kendinde olan cevabı üstte aradığı cevabı altta gösteriyor. Oyun baştaki soru ile başlıyor. O sorunun cevabı kimde ise onun aradığı cevaptan devam ederek sona ulaşılır. Sona kalan kutunun aradığı cevabı noktalı yere yazmalıyız.

5 x 2 kimde?

6	
4 x 1 kimde?	

18	
8 x 5 kimde?	

20	
6 x 2 kimde?	

15	
4 x 2 kimde?	

40	
8 x 4 kimde?	

16	
10 x 2 kimde?	

32	
7 x 2 kimde?	

8	
4 x 4 kimde?	

14	
3 x 3 kimde?	

12	
6 x 3 kimde?	

4	
5 x 3 kimde?	

10	
2 x 3 kimde?	

..... bende

... BENDE KİMDE? (Çarpma)


Her kutu, kendinde olan cevabı üstte aradığı cevabı altta gösteriyor. Oyun baştaki soru ile başlıyor. O sorunun cevabı kimde ise onun aradığı cevaptan devam ederek sona ulaşılır. Sona kalan kutunun aradığı cevabı noktalı yere yazmalıyız.

8 x 2 kimde?


16	
8 x 5 kimde?	

20	
9 x 2 kimde?	


6	
4 x 2 kimde?	

12	
5 x 2 kimde?	

40	
9 x 1 kimde?	

9	
2 x 3 kimde?	

10	
9 x 5 kimde?	

8	
6 x 4 kimde?	

45	
7 x 5 kimde?	

18	
2 x 2 kimde?	

35	
4 x 5 kimde?	


24	
4 x 3 kimde?	

..... bende

... BENDE KİMDE? (Çarpma)

Her kutu, kendinde olan cevabı üstte aradığı cevabı altta gösteriyor. Oyun baştaki soru ile başlıyor. O sorunun cevabı kimde ise onun aradığı cevaptan devam ederek sona ulaşılır. Sona kalan kutunun aradığı cevabı noktalı yere yazmalıyız.

5 x 2 kimde?

6	
4 x 1 kimde?	


18	
8 x 5 kimde?	

20	
6 x 2 kimde?	

15	
4 x 2 kimde?	

40	
8 x 4 kimde?	

16	
10 x 2 kimde?	

32	
7 x 2 kimde?	

8	
4 x 4 kimde?	

14	
3 x 3 kimde?	

12	
6 x 3 kimde?	

4	
5 x 3 kimde?	

10	
2 x 3 kimde?	


9 bende

... BENDE KİMDE? (Çarpma)


Her kutu, kendinde olan cevabı üstte aradığı cevabı altta gösteriyor. Oyun baştaki soru ile başlıyor. O sorunun cevabı kimde ise onun aradığı cevaptan devam ederek sona ulaşılır. Sona kalan kutunun aradığı cevabı noktalı yere yazmalıyız.

8 x 2 kimde?


16	
8 x 5 kimde?	

20	
9 x 2 kimde?	


6	
4 x 2 kimde?	

12	
5 x 2 kimde?	

40	
9 x 1 kimde?	

9	
2 x 3 kimde?	

10	
9 x 5 kimde?	

8	
6 x 4 kimde?	

45	
7 x 5 kimde?	

18	
2 x 2 kimde?	

35	
4 x 5 kimde?	

24	
4 x 3 kimde?	

4 bende