

... BENDE KİMDE? (Çarpma)

Her kutu, kendinde olan cevabı üstte aradığı cevabı altta gösteriyor. Oyun baştaki soru ile başlıyor. O sorunun cevabı kimde ise onun aradığı cevaptan devam ederek sona ulaşılır. Sona kalan kutunun aradığı cevabı noktalı yere yazmalıyız.

6 x 3 kimde?

10	
3 x 5 kimde?	

24	
5 x 2 kimde?	

45	
3 x 3 kimde?	

4	
2 x 1 kimde?	

20	
9 x 5 kimde?	

21	
10 x 2 kimde?	


2	
7 x 3 kimde?	

15	
5 x 5 kimde?	

18	
4 x 4 kimde?	

16	
6 x 2 kimde?	

25	
2 x 2 kimde?	

12	
6 x 4 kimde?	

..... bende

... BENDE KİMDE? (Çarpma)

Her kutu, kendinde olan cevabı üstte aradığı cevabı altta gösteriyor. Oyun baştaki soru ile başlıyor. O sorunun cevabı kimde ise onun aradığı cevaptan devam ederek sona ulaşılır. Sona kalan kutunun aradığı cevabı noktalı yere yazmalıyız.

9 x 3 kimde?

20	
9 x 4 kimde?	

25	
8 x 4 kimde?	


15	
5 x 5 kimde?	

36	
4 x 2 kimde?	

6	
10 x 2 kimde?	

14	
2 x 2 kimde?	

30	
7 x 2 kimde?	

7	
7 x 5 kimde?	

32	
10 x 3 kimde?	

8	
5 x 3 kimde?	

35	
2 x 3 kimde?	

27	
7 x 1 kimde?	


..... bende

... BENDE KİMDE? (Çarpma)

Her kutu, kendinde olan cevabı üstte aradığı cevabı altta gösteriyor. Oyun baştaki soru ile başlıyor. O sorunun cevabı kimde ise onun aradığı cevaptan devam ederek sona ulaşılır. Sona kalan kutunun aradığı cevabı noktalı yere yazmalıyız.

6 x 3 kimde?

10	
3 x 5 kimde?	

24	
5 x 2 kimde?	

45	
3 x 3 kimde?	

4	
2 x 1 kimde?	

20	
9 x 5 kimde?	

21	
10 x 2 kimde?	

2	
7 x 3 kimde?	

15	
5 x 5 kimde?	

18	
4 x 4 kimde?	

16	
6 x 2 kimde?	

25	
2 x 2 kimde?	

12	
6 x 4 kimde?	

9 bende

... BENDE KİMDE? (Çarpma)

Her kutu, kendinde olan cevabı üstte aradığı cevabı altta gösteriyor. Oyun baştaki soru ile başlıyor. O sorunun cevabı kimde ise onun aradığı cevaptan devam ederek sona ulaşılır. Sona kalan kutunun aradığı cevabı noktalı yere yazmalıyız.

9 x 3 kimde?

20	
9 x 4 kimde?	

25	
8 x 4 kimde?	

15	
5 x 5 kimde?	

36	
4 x 2 kimde?	

6	
10 x 2 kimde?	

14	
2 x 2 kimde?	

30	
7 x 2 kimde?	

7	
7 x 5 kimde?	

32	
10 x 3 kimde?	

8	
5 x 3 kimde?	

35	
2 x 3 kimde?	

27	
7 x 1 kimde?	

4 bende