


... BENDE KİMDE? (Çarpma)

Her kutu, kendinde olan cevabı üstte aradığı cevabı altta gösteriyor. Oyun baştaki soru ile başlıyor. O sorunun cevabı kimde ise onun aradığı cevaptan devam ederek sona ulaşılır. Sona kalan kutunun aradığı cevabı noktalı yere yazmalıyız.

6 x 3 kimde?

16	
5 x 2 kimde?	

25	
2 x 2 kimde?	

9	
3 x 4 kimde?	

4	
10 x 2 kimde?	

20	
2 x 1 kimde?	

10	
6 x 4 kimde?	

15	
5 x 5 kimde?	

21	
9 x 5 kimde?	

18	
4 x 4 kimde?	

24	
3 x 5 kimde?	

45	
3 x 3 kimde?	

2	
7 x 3 kimde?	

..... bende

... BENDE KİMDE? (Çarpma)

Her kutu, kendinde olan cevabı üstte aradığı cevabı altta gösteriyor. Oyun baştaki soru ile başlıyor. O sorunun cevabı kimde ise onun aradığı cevaptan devam ederek sona ulaşılır. Sona kalan kutunun aradığı cevabı noktalı yere yazmalıyız.

9 x 5 kimde?

14	
9 x 2 kimde?	

28	
7 x 5 kimde?	


12	
10 x 4 kimde?	

25	
2 x 2 kimde?	


20	
6 x 4 kimde?	

24	
9 x 4 kimde?	

45	
8 x 1 kimde?	

35	
7 x 2 kimde?	

18	
4 x 5 kimde?	

8	
6 x 2 kimde?	

36	
5 x 5 kimde?	


40	
7 x 4 kimde?	

..... bende

... BENDE KİMDE? (Çarpma)

Her kutu, kendinde olan cevabı üstte aradığı cevabı altta gösteriyor. Oyun baştaki soru ile başlıyor. O sorunun cevabı kimde ise onun aradığı cevaptan devam ederek sona ulaşılır. Sona kalan kutunun aradığı cevabı noktalı yere yazmalıyız.

6 x 3 kimde?

16	
5 x 2 kimde?	

25	
2 x 2 kimde?	

9	
3 x 4 kimde?	

4	
10 x 2 kimde?	

20	
2 x 1 kimde?	

10	
6 x 4 kimde?	

15	
5 x 5 kimde?	

21	
9 x 5 kimde?	

18	
4 x 4 kimde?	

24	
3 x 5 kimde?	

45	
3 x 3 kimde?	

2	
7 x 3 kimde?	

12 bende

... BENDE KİMDE? (Çarpma)

Her kutu, kendinde olan cevabı üstte aradığı cevabı altta gösteriyor. Oyun baştaki soru ile başlıyor. O sorunun cevabı kimde ise onun aradığı cevaptan devam ederek sona ulaşılır. Sona kalan kutunun aradığı cevabı noktalı yere yazmalıyız.


9 x 5 kimde?

14	
9 x 2 kimde?	

28	
7 x 5 kimde?	


12	
10 x 4 kimde?	

25	
2 x 2 kimde?	

20	
6 x 4 kimde?	

24	
9 x 4 kimde?	

45	
8 x 1 kimde?	

35	
7 x 2 kimde?	

18	
4 x 5 kimde?	

8	
6 x 2 kimde?	

36	
5 x 5 kimde?	

40	
7 x 4 kimde?	

4 bende