


## ... BENDE .... KİMDE? (Çarpma)


Her kutu, kendinde olan cevabı üstte aradığı cevabı altta gösteriyor. Oyun baştaki soru ile başlıyor. O sorunun cevabı kimde ise onun aradığı cevaptan devam ederek sona ulaşılır. Sona kalan kutunun aradığı cevabı noktalı yere yazmalıyız.

10 x 5 kimde?

7	
9 x 4 kimde?	

45	
7 x 2 kimde?	

12	
5 x 3 kimde?	

36	
9 x 5 kimde?	

18	
6 x 4 kimde?	

20	
2 x 5 kimde?	

15	
7 x 5 kimde?	

10	
5 x 5 kimde?	

14	
9 x 2 kimde?	

24	
5 x 4 kimde?	

50	
7 x 1 kimde?	

25	
4 x 3 kimde?	

..... bende

## ... BENDE .... KİMDE? (Çarpma)

Her kutu, kendinde olan cevabı üstte aradığı cevabı altta gösteriyor. Oyun baştaki soru ile başlıyor. O sorunun cevabı kimde ise onun aradığı cevaptan devam ederek sona ulaşılır. Sona kalan kutunun aradığı cevabı noktalı yere yazmalıyız.


6 x 3 kimde?

3	
8 x 2 kimde?	

15	
8 x 5 kimde?	


12	
10 x 3 kimde?	

16	
5 x 4 kimde?	

8	
8 x 4 kimde?	

18	
5 x 5 kimde?	

40	
4 x 3 kimde?	

20	
5 x 3 kimde?	

25	
3 x 1 kimde?	

32	
2 x 5 kimde?	

30	
3 x 3 kimde?	


9	
4 x 2 kimde?	

..... bende

## ... BENDE .... KİMDE? (Çarpma)

Her kutu, kendinde olan cevabı üstte aradığı cevabı altta gösteriyor. Oyun baştaki soru ile başlıyor. O sorunun cevabı kimde ise onun aradığı cevaptan devam ederek sona ulaşılır. Sona kalan kutunun aradığı cevabı noktalı yere yazmalıyız.

10 x 5 kimde?

7	
9 x 4 kimde?	

45	
7 x 2 kimde?	

12	
5 x 3 kimde?	

36	
9 x 5 kimde?	

18	
6 x 4 kimde?	

20	
2 x 5 kimde?	

15	
7 x 5 kimde?	

10	
5 x 5 kimde?	

14	
9 x 2 kimde?	

24	
5 x 4 kimde?	

50	
7 x 1 kimde?	

25	
4 x 3 kimde?	

35 bende

## ... BENDE .... KİMDE? (Çarpma)


Her kutu, kendinde olan cevabı üstte aradığı cevabı altta gösteriyor. Oyun baştaki soru ile başlıyor. O sorunun cevabı kimde ise onun aradığı cevaptan devam ederek sona ulaşılır. Sona kalan kutunun aradığı cevabı noktalı yere yazmalıyız.


6 x 3 kimde?

3	
8 x 2 kimde?	

15	
8 x 5 kimde?	

12	
10 x 3 kimde?	

16	
5 x 4 kimde?	

8	
8 x 4 kimde?	

18	
5 x 5 kimde?	

40	
4 x 3 kimde?	

20	
5 x 3 kimde?	

25	
3 x 1 kimde?	

32	
2 x 5 kimde?	

30	
3 x 3 kimde?	

9	
4 x 2 kimde?	

10 bende