

... BENDE KİMDE? (Çarpma)

Her kutu, kendinde olan cevabı üstte aradığı cevabı altta gösteriyor. Oyun baştaki soru ile başlıyor. O sorunun cevabı kimde ise onun aradığı cevaptan devam ederek sona ulaşılır. Sona kalan kutunun aradığı cevabı noktalı yere yazmalıyız.

4 x 2 kimde?

8	
10 x 2 kimde?	

15	
5 x 2 kimde?	

20	
3 x 1 kimde?	

3	
4 x 3 kimde?	

28	
7 x 5 kimde?	

35	
10 x 3 kimde?	

9	
9 x 5 kimde?	

30	
9 x 4 kimde?	

10	
7 x 4 kimde?	

45	
3 x 5 kimde?	

40	
3 x 3 kimde?	

12	
10 x 4 kimde?	

..... bende

... BENDE KİMDE? (Çarpma)


Her kutu, kendinde olan cevabı üstte aradığı cevabı altta gösteriyor. Oyun baştaki soru ile başlıyor. O sorunun cevabı kimde ise onun aradığı cevaptan devam ederek sona ulaşılır. Sona kalan kutunun aradığı cevabı noktalı yere yazmalıyız.

6 x 5 kimde?

10	
5 x 5 kimde?	

20	
2 x 3 kimde?	


6	
8 x 4 kimde?	

30	
7 x 2 kimde?	

25	
4 x 1 kimde?	

14	
9 x 2 kimde?	

18	
4 x 4 kimde?	

4	
7 x 5 kimde?	

35	
3 x 5 kimde?	

32	
2 x 5 kimde?	

15	
6 x 2 kimde?	

16	
5 x 4 kimde?	

..... bende

... BENDE KİMDE? (Çarpma)

Her kutu, kendinde olan cevabı üstte aradığı cevabı altta gösteriyor. Oyun baştaki soru ile başlıyor. O sorunun cevabı kimde ise onun aradığı cevaptan devam ederek sona ulaşılır. Sona kalan kutunun aradığı cevabı noktalı yere yazmalıyız.

4 x 2 kimde?

8	
10 x 2 kimde?	

15	
5 x 2 kimde?	

20	
3 x 1 kimde?	

3	
4 x 3 kimde?	

28	
7 x 5 kimde?	

35	
10 x 3 kimde?	

9	
9 x 5 kimde?	

30	
9 x 4 kimde?	

10	
7 x 4 kimde?	

45	
3 x 5 kimde?	

40	
3 x 3 kimde?	

12	
10 x 4 kimde?	

36 bende

... BENDE KİMDE? (Çarpma)

Her kutu, kendinde olan cevabı üstte aradığı cevabı altta gösteriyor. Oyun baştaki soru ile başlıyor. O sorunun cevabı kimde ise onun aradığı cevaptan devam ederek sona ulaşılır. Sona kalan kutunun aradığı cevabı noktalı yere yazmalıyız.

6 x 5 kimde?

10	
5 x 5 kimde?	

20	
2 x 3 kimde?	


6	
8 x 4 kimde?	

30	
7 x 2 kimde?	

25	
4 x 1 kimde?	

14	
9 x 2 kimde?	

18	
4 x 4 kimde?	

4	
7 x 5 kimde?	

35	
3 x 5 kimde?	

32	
2 x 5 kimde?	

15	
6 x 2 kimde?	

16	
5 x 4 kimde?	

12 bende