


## ... BENDE .... KİMDE? (Çarpma)

Her kutu, kendinde olan cevabı üstte aradığı cevabı altta gösteriyor. Oyun baştaki soru ile başlıyor. O sorunun cevabı kimde ise onun aradığı cevaptan devam ederek sona ulaşılır. Sona kalan kutunun aradığı cevabı noktalı yere yazmalıyız.

3 x 1 kimde?

40	
2 x 5 kimde?	

20	
3 x 5 kimde?	

27	
2 x 3 kimde?	

24	
7 x 5 kimde?	

15	
3 x 3 kimde?	

35	
7 x 4 kimde?	


3	
10 x 2 kimde?	

10	
4 x 2 kimde?	

28	
9 x 5 kimde?	

9	
9 x 3 kimde?	

8	
6 x 4 kimde?	


6	
8 x 5 kimde?	

..... bende

## ... BENDE .... KİMDE? (Çarpma)


Her kutu, kendinde olan cevabı üstte aradığı cevabı altta gösteriyor. Oyun baştaki soru ile başlıyor. O sorunun cevabı kimde ise onun aradığı cevaptan devam ederek sona ulaşılır. Sona kalan kutunun aradığı cevabı noktalı yere yazmalıyız.


3 x 4 kimde?

27	
7 x 4 kimde?	

25	
8 x 4 kimde?	


18	
7 x 5 kimde?	

12	
3 x 2 kimde?	

6	
4 x 4 kimde?	

40	
10 x 1 kimde?	

35	
4 x 2 kimde?	

8	
8 x 5 kimde?	

32	
9 x 2 kimde?	

16	
6 x 5 kimde?	

10	
9 x 3 kimde?	


30	
5 x 5 kimde?	


..... bende

## ... BENDE .... KİMDE? (Çarpma)

Her kutu, kendinde olan cevabı üstte aradığı cevabı altta gösteriyor. Oyun baştaki soru ile başlıyor. O sorunun cevabı kimde ise onun aradığı cevaptan devam ederek sona ulaşılır. Sona kalan kutunun aradığı cevabı noktalı yere yazmalıyız.

3 x 1 kimde?

40	
2 x 5 kimde?	


20	
3 x 5 kimde?	

27	
2 x 3 kimde?	

24	
7 x 5 kimde?	

15	
3 x 3 kimde?	

35	
7 x 4 kimde?	

3	
10 x 2 kimde?	

10	
4 x 2 kimde?	

28	
9 x 5 kimde?	

9	
9 x 3 kimde?	

8	
6 x 4 kimde?	


6	
8 x 5 kimde?	

45 bende

## ... BENDE .... KİMDE? (Çarpma)


Her kutu, kendinde olan cevabı üstte aradığı cevabı altta gösteriyor. Oyun baştaki soru ile başlıyor. O sorunun cevabı kimde ise onun aradığı cevaptan devam ederek sona ulaşılır. Sona kalan kutunun aradığı cevabı noktalı yere yazmalıyız.

3 x 4 kimde?

27	
7 x 4 kimde?	

25	
8 x 4 kimde?	


18	
7 x 5 kimde?	

12	
3 x 2 kimde?	

6	
4 x 4 kimde?	

40	
10 x 1 kimde?	

35	
4 x 2 kimde?	

8	
8 x 5 kimde?	

32	
9 x 2 kimde?	

16	
6 x 5 kimde?	

10	
9 x 3 kimde?	

30	
5 x 5 kimde?	

28 bende