


... BENDE KİMDE? (Çarpma)

Her kutu, kendinde olan cevabı üstte aradığı cevabı altta gösteriyor. Oyun baştaki soru ile başlıyor. O sorunun cevabı kimde ise onun aradığı cevaptan devam ederek sona ulaşılır. Sona kalan kutunun aradığı cevabı noktalı yere yazmalıyız.

3 x 1 kimde?

20	
2 x 2 kimde?	

32	
10 x 5 kimde?	

8	
3 x 4 kimde?	

10	
3 x 2 kimde?	

24	
8 x 5 kimde?	

35	
8 x 4 kimde?	

18	
2 x 5 kimde?	

50	
5 x 4 kimde?	

3	
9 x 2 kimde?	

4	
4 x 2 kimde?	

40	
7 x 5 kimde?	

6	
8 x 3 kimde?	

..... bende

... BENDE KİMDE? (Çarpma)

Her kutu, kendinde olan cevabı üstte aradığı cevabı altta gösteriyor. Oyun baştaki soru ile başlıyor. O sorunun cevabı kimde ise onun aradığı cevaptan devam ederek sona ulaşılır. Sona kalan kutunun aradığı cevabı noktalı yere yazmalıyız.


7 x 2 kimde?

30	
9 x 3 kimde?	

25	
8 x 5 kimde?	

6	
6 x 3 kimde?	

27	
6 x 1 kimde?	

24	
4 x 2 kimde?	

20	
3 x 4 kimde?	

40	
10 x 2 kimde?	

8	
5 x 5 kimde?	

18	
8 x 3 kimde?	

50	
4 x 4 kimde?	

12	
10 x 5 kimde?	

14	
6 x 5 kimde?	


..... bende


... BENDE KİMDE? (Çarpma)

Her kutu, kendinde olan cevabı üstte aradığı cevabı altta gösteriyor. Oyun baştaki soru ile başlıyor. O sorunun cevabı kimde ise onun aradığı cevaptan devam ederek sona ulaşılır. Sona kalan kutunun aradığı cevabı noktalı yere yazmalıyız.

3 x 1 kimde?

20	
2 x 2 kimde?	

32	
10 x 5 kimde?	

8	
3 x 4 kimde?	

10	
3 x 2 kimde?	

24	
8 x 5 kimde?	

35	
8 x 4 kimde?	

18	
2 x 5 kimde?	

50	
5 x 4 kimde?	

3	
9 x 2 kimde?	

4	
4 x 2 kimde?	

40	
7 x 5 kimde?	

6	
8 x 3 kimde?	

12 bende

... BENDE KİMDE? (Çarpma)

Her kutu, kendinde olan cevabı üstte aradığı cevabı altta gösteriyor. Oyun baştaki soru ile başlıyor. O sorunun cevabı kimde ise onun aradığı cevaptan devam ederek sona ulaşılır. Sona kalan kutunun aradığı cevabı noktalı yere yazmalıyız.


7 x 2 kimde?

30	
9 x 3 kimde?	

25	
8 x 5 kimde?	


6	
6 x 3 kimde?	

27	
6 x 1 kimde?	

24	
4 x 2 kimde?	

20	
3 x 4 kimde?	

40	
10 x 2 kimde?	

8	
5 x 5 kimde?	

18	
8 x 3 kimde?	

50	
4 x 4 kimde?	

12	
10 x 5 kimde?	

14	
6 x 5 kimde?	

16 bende