


... BENDE KİMDE? (Çarpma)

Her kutu, kendinde olan cevabı üstte aradığı cevabı altta gösteriyor. Oyun baştaki soru ile başlıyor. O sorunun cevabı kimde ise onun aradığı cevaptan devam ederek sona ulaşılır. Sona kalan kutunun aradığı cevabı noktalı yere yazmalıyız.

2 x 5 kimde?

40	
2 x 2 kimde?	

45	
7 x 2 kimde?	


10	
8 x 1 kimde?	

30	
6 x 4 kimde?	

36	
7 x 4 kimde?	

4	
9 x 5 kimde?	

24	
3 x 5 kimde?	

20	
7 x 5 kimde?	

35	
6 x 5 kimde?	

8	
10 x 4 kimde?	

14	
10 x 2 kimde?	

15	
9 x 4 kimde?	

..... bende

... BENDE KİMDE? (Çarpma)

Her kutu, kendinde olan cevabı üstte aradığı cevabı altta gösteriyor. Oyun baştaki soru ile başlıyor. O sorunun cevabı kimde ise onun aradığı cevaptan devam ederek sona ulaşılır. Sona kalan kutunun aradığı cevabı noktalı yere yazmalıyız.

2 x 3 kimde?


21	
8 x 1 kimde?	

18	
5 x 3 kimde?	

45	
6 x 3 kimde?	


4	
3 x 3 kimde?	

9	
5 x 5 kimde?	

24	
7 x 4 kimde?	

16	
7 x 3 kimde?	

25	
4 x 4 kimde?	

8	
5 x 4 kimde?	

6	
2 x 2 kimde?	

28	
9 x 5 kimde?	

20	
6 x 4 kimde?	

..... bende

... BENDE KİMDE? (Çarpma)

Her kutu, kendinde olan cevabı üstte aradığı cevabı altta gösteriyor. Oyun baştaki soru ile başlıyor. O sorunun cevabı kimde ise onun aradığı cevaptan devam ederek sona ulaşılır. Sona kalan kutunun aradığı cevabı noktalı yere yazmalıyız.

2 x 5 kimde?

40	
2 x 2 kimde?	

45	
7 x 2 kimde?	


10	
8 x 1 kimde?	

30	
6 x 4 kimde?	

36	
7 x 4 kimde?	

4	
9 x 5 kimde?	

24	
3 x 5 kimde?	

20	
7 x 5 kimde?	

35	
6 x 5 kimde?	

8	
10 x 4 kimde?	

14	
10 x 2 kimde?	

15	
9 x 4 kimde?	

28 bende

... BENDE KİMDE? (Çarpma)

Her kutu, kendinde olan cevabı üstte aradığı cevabı altta gösteriyor. Oyun baştaki soru ile başlıyor. O sorunun cevabı kimde ise onun aradığı cevaptan devam ederek sona ulaşılır. Sona kalan kutunun aradığı cevabı noktalı yere yazmalıyız.

2 x 3 kimde?

21	
8 x 1 kimde?	

18	
5 x 3 kimde?	

45	
6 x 3 kimde?	

4	
3 x 3 kimde?	

9	
5 x 5 kimde?	

24	
7 x 4 kimde?	

16	
7 x 3 kimde?	

25	
4 x 4 kimde?	

8	
5 x 4 kimde?	

6	
2 x 2 kimde?	

28	
9 x 5 kimde?	

20	
6 x 4 kimde?	

15 bende