

... BENDE KİMDE? (Çarpma)

Her kutu, kendinde olan cevabı üstte aradığı cevabı altta gösteriyor. Oyun baştaki soru ile başlıyor. O sorunun cevabı kimde ise onun aradığı cevaptan devam ederek sona ulaşılır. Sona kalan kutunun aradığı cevabı noktalı yere yazmalıyız.

7 x 3 kimde?

9	
2 x 3 kimde?	

18	
4 x 5 kimde?	

21	
4 x 4 kimde?	

20	
6 x 5 kimde?	

10	
2 x 2 kimde?	

16	
6 x 2 kimde?	

32	
10 x 1 kimde?	

6	
8 x 3 kimde?	

24	
8 x 4 kimde?	

30	
3 x 3 kimde?	

12	
7 x 5 kimde?	

35	
6 x 3 kimde?	

..... bende

... BENDE KİMDE? (Çarpma)

Her kutu, kendinde olan cevabı üstte aradığı cevabı altta gösteriyor. Oyun baştaki soru ile başlıyor. O sorunun cevabı kimde ise onun aradığı cevaptan devam ederek sona ulaşılır. Sona kalan kutunun aradığı cevabı noktalı yere yazmalıyız.

8 x 3 kimde?

18	
4 x 4 kimde?	

20	
9 x 2 kimde?	


24	
6 x 1 kimde?	

27	
2 x 5 kimde?	

12	
9 x 3 kimde?	

32	
4 x 3 kimde?	

14	
10 x 5 kimde?	

10	
7 x 2 kimde?	

16	
2 x 2 kimde?	

6	
7 x 4 kimde?	

28	
10 x 2 kimde?	

4	
8 x 4 kimde?	

..... bende

... BENDE KİMDE? (Çarpma)

Her kutu, kendinde olan cevabı üstte aradığı cevabı altta gösteriyor. Oyun baştaki soru ile başlıyor. O sorunun cevabı kimde ise onun aradığı cevaptan devam ederek sona ulaşılır. Sona kalan kutunun aradığı cevabı noktalı yere yazmalıyız.

7 x 3 kimde?

9	
2 x 3 kimde?	

18	
4 x 5 kimde?	

21	
4 x 4 kimde?	

20	
6 x 5 kimde?	

10	
2 x 2 kimde?	

16	
6 x 2 kimde?	

32	
10 x 1 kimde?	

6	
8 x 3 kimde?	

24	
8 x 4 kimde?	

30	
3 x 3 kimde?	

12	
7 x 5 kimde?	


35	
6 x 3 kimde?	

4 bende

... BENDE KİMDE? (Çarpma)


Her kutu, kendinde olan cevabı üstte aradığı cevabı altta gösteriyor. Oyun baştaki soru ile başlıyor. O sorunun cevabı kimde ise onun aradığı cevaptan devam ederek sona ulaşılır. Sona kalan kutunun aradığı cevabı noktalı yere yazmalıyız.

8 x 3 kimde?

18	
4 x 4 kimde?	

20	
9 x 2 kimde?	

24	
6 x 1 kimde?	

27	
2 x 5 kimde?	


12	
9 x 3 kimde?	

32	
4 x 3 kimde?	


14	
10 x 5 kimde?	

10	
7 x 2 kimde?	

16	
2 x 2 kimde?	

6	
7 x 4 kimde?	

28	
10 x 2 kimde?	

4	
8 x 4 kimde?	

50 bende