

... BENDE KİMDE? (Çarpma)

Her kutu, kendinde olan cevabı üstte aradığı cevabı altta gösteriyor. Oyun baştaki soru ile başlıyor. O sorunun cevabı kimde ise onun aradığı cevaptan devam ederek sona ulaşılır. Sona kalan kutunun aradığı cevabı noktalı yere yazmalıyız.

5 x 2 kimde?

4	
5 x 4 kimde?	

10	
2 x 3 kimde?	

6	
4 x 1 kimde?	

32	
5 x 3 kimde?	

18	
6 x 2 kimde?	

12	
8 x 5 kimde?	

20	
4 x 2 kimde?	

15	
7 x 2 kimde?	

16	
9 x 2 kimde?	

8	
4 x 4 kimde?	

14	
3 x 3 kimde?	


40	
8 x 4 kimde?	

..... bende

... BENDE KİMDE? (Çarpma)

Her kutu, kendinde olan cevabı üstte aradığı cevabı altta gösteriyor. Oyun baştaki soru ile başlıyor. O sorunun cevabı kimde ise onun aradığı cevaptan devam ederek sona ulaşılır. Sona kalan kutunun aradığı cevabı noktalı yere yazmalıyız.

4 x 1 kimde?


32	
7 x 4 kimde?	

4	
2 x 3 kimde?	


9	
6 x 5 kimde?	

28	
5 x 4 kimde?	

25	
8 x 4 kimde?	

30	
5 x 5 kimde?	

6	
3 x 3 kimde?	

8	
6 x 3 kimde?	

27	
4 x 2 kimde?	

20	
9 x 3 kimde?	

18	
7 x 3 kimde?	

21	
3 x 5 kimde?	

..... bende

... BENDE KİMDE? (Çarpma)

Her kutu, kendinde olan cevabı üstte aradığı cevabı altta gösteriyor. Oyun baştaki soru ile başlıyor. O sorunun cevabı kimde ise onun aradığı cevaptan devam ederek sona ulaşılır. Sona kalan kutunun aradığı cevabı noktalı yere yazmalıyız.


5 x 2 kimde?

4	
5 x 4 kimde?	

10	
2 x 3 kimde?	

6	
4 x 1 kimde?	

32	
5 x 3 kimde?	

18	
6 x 2 kimde?	

12	
8 x 5 kimde?	

20	
4 x 2 kimde?	

15	
7 x 2 kimde?	

16	
9 x 2 kimde?	

8	
4 x 4 kimde?	

14	
3 x 3 kimde?	

40	
8 x 4 kimde?	

9 bende

... BENDE KİMDE? (Çarpma)

Her kutu, kendinde olan cevabı üstte aradığı cevabı altta gösteriyor. Oyun baştaki soru ile başlıyor. O sorunun cevabı kimde ise onun aradığı cevaptan devam ederek sona ulaşılır. Sona kalan kutunun aradığı cevabı noktalı yere yazmalıyız.

4 x 1 kimde?


32	
7 x 4 kimde?	

4	
2 x 3 kimde?	


9	
6 x 5 kimde?	

28	
5 x 4 kimde?	

25	
8 x 4 kimde?	

30	
5 x 5 kimde?	

6	
3 x 3 kimde?	

8	
6 x 3 kimde?	

27	
4 x 2 kimde?	

20	
9 x 3 kimde?	

18	
7 x 3 kimde?	

21	
3 x 5 kimde?	

15 bende